

複習一

● 1上至4上課題



日期：_____



成績：_____ /17



時限： 20 分鐘

範疇	評估重點		題目	得分
數	◇ 公因數和公倍數 ◇ 乘法和除法	◇ 整除性 ◇ 五位數	1 - 6	/10
度量	◇ 時間	◇ 長度	7 - 8	/2
圖形與空間	◇ 立體圖形 ◇ 方向	◇ 三角形	9 - 11	/5



自我評估

13-17 分



9-12 分

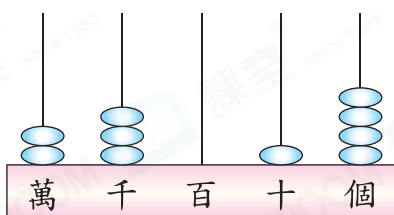


0-8 分



評分欄

1.



(a) 用中國數字寫出上圖算柱所表示的數。

答案：_____

(b) 在上圖算柱所表示的數裏，千位數字是_____，而萬位數字代表的數值是_____。

2. $14 \times 23 =$ _____

3. 18 和 49 的最大公因數 (H.C.F.) 是_____。

4. (a) 在 50 以內，3 和 8 的所有公倍數是_____。

(b) 3 和 8 的最小公倍數 (L.C.M.) 是_____。

5. 將 255 張貼紙分給 15 人，平均每人分得多少張？(列式計算)



1分



1分



1分



1分



1分



1分



1分



1分



1分

6. 下列哪些數可以被3整除？(圈出所有答案)

720

415

6905

86037

7. 以下哪個長度單位最適合用來量度一本補充練習的厚度？


A. km

B. m

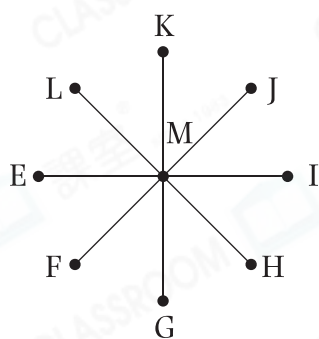
C. cm

D. mm

8. 右圖鐘面顯示媽媽今早起牀的時間。她昨晚睡了8小時，用「24小時報時制」在下面的數字鐘上填寫媽媽昨晚入睡的時間。



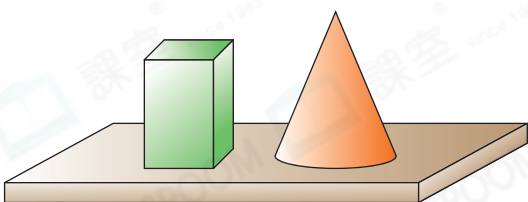
9.



如果J在F的西北方，L在H的哪一方？

答案：_____方

10.

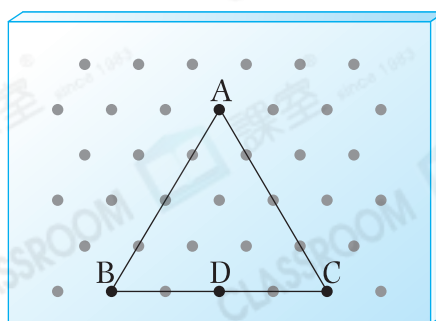


左圖中有兩個_____和一個_____。

11. 小偉在右圖的釘板上用橡皮圈圍出一個三角形。

(a) 這是一個_____三角形。

(b) 若把橡皮圈由B點移往D點，將圍出一個_____三角形。



1分

1分

1分

1分

1分

1分

1分

1分