



日期：\_\_\_\_\_

成績：\_\_\_\_\_

**計算下列各題。**

$$\begin{array}{r}
 1. \quad 5.8 \\
 + \quad 2.4 \\
 \hline
 \end{array}$$

$$\begin{array}{r}
 - \quad 3.2 \\
 \hline
 \end{array}$$

$$\begin{array}{r}
 2. \quad 9.5 \\
 - \quad 7.7 \\
 \hline
 \end{array}$$

$$\begin{array}{r}
 + \quad 6.3 \\
 \hline
 \end{array}$$

3.  $6.21 + 3.6 - 0.01 =$  \_\_\_\_\_

4.  $1.3 - (2.4 - 1.6) =$  \_\_\_\_\_

5.  $24 - (13.6 - 1.27) =$  \_\_\_\_\_


6.  $10.28 - 13.44 + 5.27 =$  \_\_\_\_\_

**列式計算下列各題。**

7. 一袋砂糖，做蛋糕和麵包分別用去 1.4kg 和 0.8kg 後，還餘下砂糖多少？



還餘下砂糖：\_\_\_\_\_



2.5kg

8. 媽媽用 0.75 升橙汁和 0.82 升汽水調製成一瓶特飲，喝了 1.2 升後，還餘下特飲多少升？



還餘下特飲：\_\_\_\_\_

9. 寵物店有 78.2 公斤貓糧和 69.8 公斤貓砂。賣出 11.8 公斤貓糧後，現在貓糧和貓砂相差多少公斤？



現在貓糧和貓砂相差：\_\_\_\_\_

10. 一罐清雞湯售 \$14.9，比一罐粟米湯貴 \$4.4，各買一罐，共應付多少？



共應付：\_\_\_\_\_

11. 以下哪道算式最適合估計「 $18.83 + 2.1 - 6.92$ 」的數值？

- A.  $18 + 2 - 6$                       ○ B.  $18 + 3 - 7$   
○ C.  $19 + 2 - 7$                       ○ D.  $19 + 3 - 6$

12.



我上月的體重是43.1kg，這個月輕了1.2kg。



我上月的體重只是37.4kg，這個月重了0.8kg。

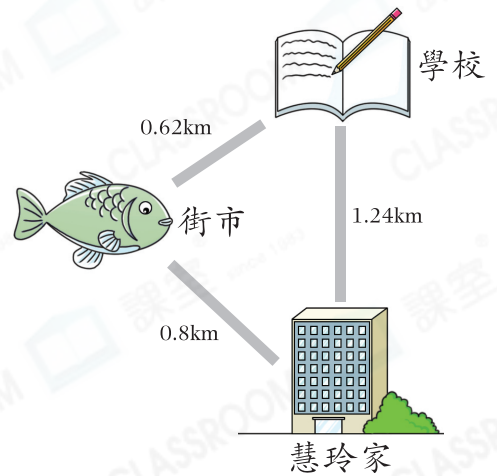
(a) 男孩這個月的體重是\_\_\_\_\_ kg。

(b) 兩人這個月的體重相差\_\_\_\_\_ kg。

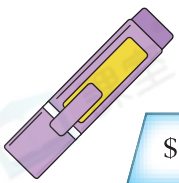
13. 圍巾和手鏈分別售 58.8 元和 40.5 元，姊姊欠 10 元 3 角才可買到一條圍巾和一條手鏈，她有多少元？

答案：\_\_\_\_\_元

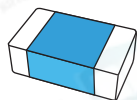
14. 慧玲由家經街市到學校，比由家直接走到學校，多走了多少？(列式計算)



15. 進階



\$8.90



\$5.60



\$9.80

子康付 \$10 買一枝原子筆。收銀員告訴他原子筆正以優惠價發售，因此找回 \$2.3 給他。原子筆的售價比原來便宜了 \$ \_\_\_\_\_。