

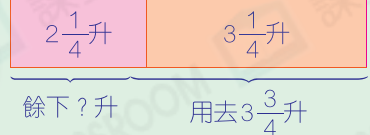
# 應用題訓練二

○ 分數計算    ○ 小數計算

日期： \_\_\_\_\_  
成績： \_\_\_\_\_

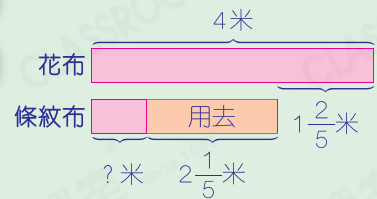
1. 餐廳原有  $2\frac{1}{4}$  升白醋和  $3\frac{1}{4}$  升陳醋，共用去  $3\frac{3}{4}$  升醋後，還餘醋多少升？

圖解



2. 家裏有一塊花布長 4 米，比條紋布長  $1\frac{2}{5}$  米。陳太太用  $2\frac{1}{5}$  米條紋布縫製了一個沙發套後，還剩條紋布多少米？

圖解



3. 一本漫畫，曉婷 今天看了  $\frac{3}{11}$  本，比昨天少看  $\frac{1}{11}$  本。她昨天看了漫畫多少本？

提示

「比昨天少看  $\frac{1}{11}$  本」，即  
昨天比今天多看  $\frac{1}{11}$  本。

4. 某月有 30 天，當中有  $\frac{2}{5}$  是晴天， $\frac{1}{5}$  是雨天，其餘都是陰天。陰天佔該月的幾分之幾？

提示

留意不是求具體天數。

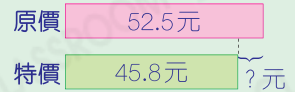
5.



特價 \$45.80

(a) 雨菲買一本《小魔女》，比原價節省了多少元？

圖解



(b) 世樂買《英文字典》和《小魔女》各一本，共須付多少元？

6. 家中原有粟米油 3000 毫升，用去 1800 毫升後，再買了一瓶 2.5 升的粟米油，現有粟米油多少升？

提示

先統一以「升」為單位，再計算。

7. 上月心怡和智惠的體重相差 1.8kg。心怡減肥後，與智惠的體重仍然相差 1.8kg。若心怡上月重 40kg，她現在的體重是多少？

圖解

