

複習二

● 1上至4上課題



日期：_____



成績：_____ /18



時限： 20 分鐘

範疇	評估重點	題目	得分
數	◇ 乘法 ◇ 除法 ◇ 乘加混合計算 ◇ 分數的認識	1 - 7	/11
度量	◇ 重量 ◇ 容量	8 - 9	/2
圖形與空間	◇ 平面圖形 ◇ 角	10 - 11	/5



自我評估

14-18分

10-13分

0-9分

評分欄



1分



1分



1分



1分



1分



1分



1分



1分



1分

1. $225 \div 25 =$ _____

2. $2378 + 1526 - 812 =$ _____

3. _____ $\times 4 = 4 \times 256$

4. 弟弟有244枚郵票，比哥哥少30枚，姊姊的郵票數量是哥哥的2倍，姊姊有郵票多少枚？

- A. 428枚 ○ B. 458枚 ○ C. 518枚 ○ D. 548枚

5. 在空格內填上正確的數字。

$$1 = \frac{9}{\boxed{\quad}} = \frac{\boxed{\quad}}{17}$$

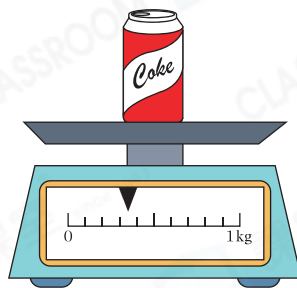
6. 訂閱每月一期的兒童雜誌，每期只需15元，每年的郵費共需65元。陳太太訂閱一年的兒童雜誌連郵費，共須付多少元？(列式計算)

7. (a) $\frac{8}{11}$ ☆ 小於 / 等於 / 大於 1。
(☆圈出答案)

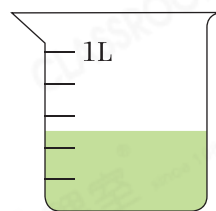
(b) 在空格內填上適當的數字。

$\frac{\quad}{13}$ 比 $\frac{5}{13}$ 小。

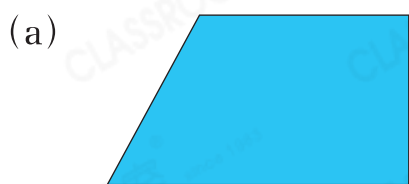
8. 一罐汽水的重量是_____。
(答案須寫上單位)




9. 一瓶1L250mL的綠茶，哥哥喝了一些後，餘下部分如右圖所示。他喝了_____綠茶。
(答案須寫上單位)



10. 寫出以下各平面圖形的名稱。



答案：_____形



答案：_____形

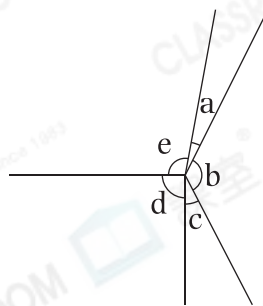
11. 根據指示，寫出所有代表答案的英文字母。

列出：

(a) 直角：_____

(b) 鈍角：_____

(c) 銳角：_____



評分欄



1分



1分



1分



1分



1分



1分



1分



1分



1分