

# 4

## 正方形的周界



日期：\_\_\_\_\_

成績：\_\_\_\_\_


計算下列各正方形物件的周界。

1.




\_\_\_\_\_ cm

2.



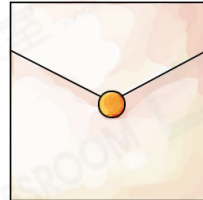
\_\_\_\_\_ cm

3.



\_\_\_\_\_ cm

4.



\_\_\_\_\_ mm

45cm

120mm



正方形的周界 = 邊長  $\times$  4

列式計算下列各題。

5. 一張正方形地毯，邊長是2米，它的周界是多少米？



它的周界是：\_\_\_\_\_

6. 一個正方形的周界是32厘米，它的邊長是多少厘米？



它的邊長是：\_\_\_\_\_

7. 兩張正方形手工紙的邊長分別是10cm和8cm，它們的周界相差多少？



它們的周界相差：\_\_\_\_\_

8. 右面的圖形是由兩個邊長7cm的正方形拼砌而成，它的周界是多少？



它的周界是：\_\_\_\_\_




9. 一個正方形桌面，邊長是85厘米，這個桌面的周界是多少厘米？

答案：\_\_\_\_\_厘米

10. 一塊正方形地磚的周界是132cm，該地磚的邊長是\_\_\_\_\_cm。


11. 將右面的正方形硬卡紙沿虛線剪成四張大小相同的小正方形硬卡紙。每張小硬卡紙的周界是\_\_\_\_\_cm。



12. 一塊正方形草地的邊長是35米，草地主人沿着草地周邊築起籬笆，每米的費用是72元，建造籬笆的總費用是\_\_\_\_\_元。

13. 文康圍繞正方形花園外圍跑步，他跑了5圈，共跑了900米。這個花園的邊長是多少米？(列式計算)

14. 右圖有兩個正方形，邊長分別是15cm和9cm。着色部分的周界是\_\_\_\_\_cm。



15.  左圖是一個正方形。

(a) 用直尺量度它的邊長。

答案：邊長是\_\_\_\_\_cm。

(b) 用四個左圖的正方形拼成一個大正方形，大正方形的周界是\_\_\_\_\_cm。