

5

長方形的周界




日期：_____

成績：_____




求下面各圖的周界。

1.



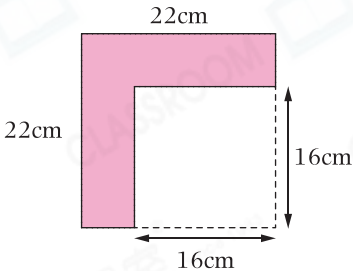
_____ cm

2.



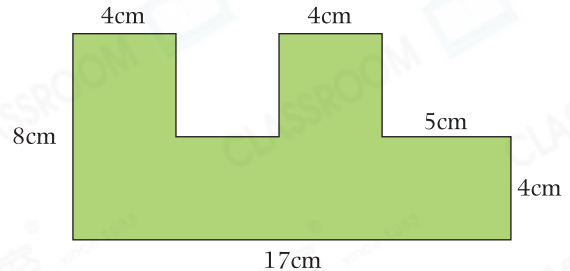
_____ cm

3.



_____ cm

4.



_____ cm



列式計算下列各題。

5. 一張長方形桌布長1米，闊82厘米，它的周界是多少厘米？



它的周界是：_____



加油站

長方形的周界 = (長 + 闊) × 2

6. 游泳池長50米，闊25米。救生員沿游泳池外圍走了兩個圈，即共走了多少米？

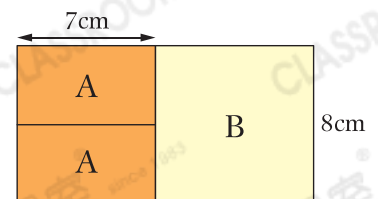


共走了：_____

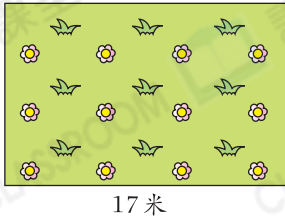
7. 右圖由兩個長方形A和一個正方形B合併而成。整個圖形的周界是多少？



整個圖形的周界是：_____



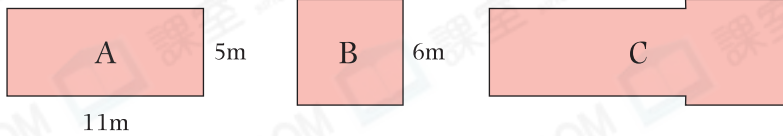
8.



左圖是一個長方形花園，它的周界是56米，它的闊是多少米？

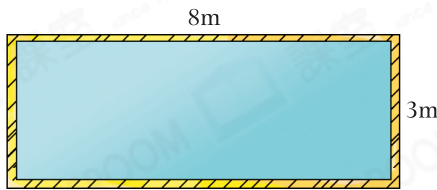
答案：它的闊是_____米。

9.



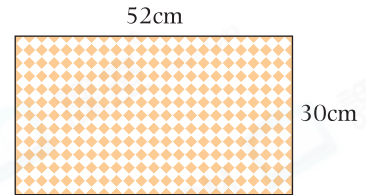
圖形C是由長方形A和正方形B組成，它的周界是_____m。

10.



老師在左面的壁報板周邊圍上一圈彩帶。如果每米彩帶價值2元，所需的彩帶共值_____元。

11. 文芳在右面的花紙上剪一刀，剪出一張最大的正方形花紙包裝禮物。

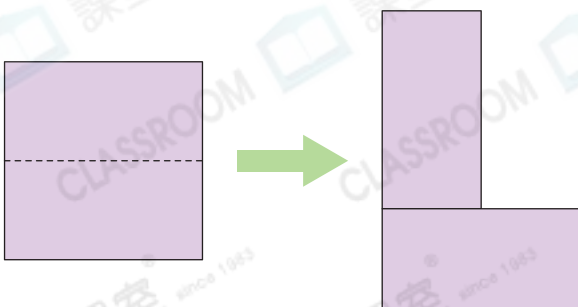


(a) 花紙原來的周界是_____cm。

(b) 餘下部分的周界是多少？(列式計算)



12. 在下圖中，正方形手工紙的周界是48cm。沿虛線把它剪成兩個大小相同的長方形，然後再拼成一個L形圖案。



(a) 正方形手工紙的邊長是_____cm。

(b) L形圖案的周界是_____cm。