

6

面積的認識




日期：_____

成績：_____

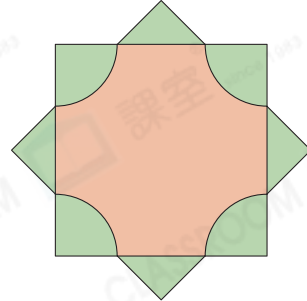
觀察以下圖形，圈出答案。

1.



(/) 的面積較小。

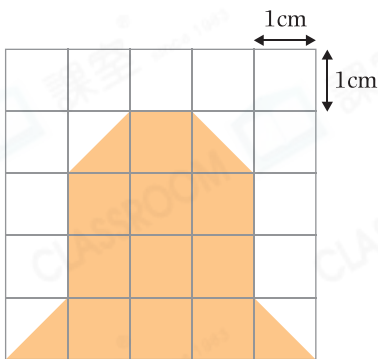
2.



(/) 的面積較大。

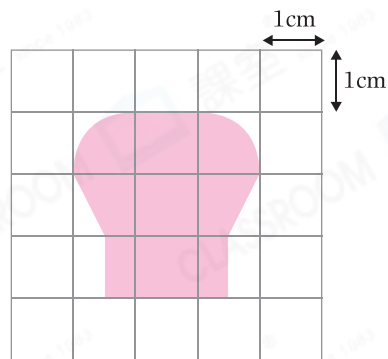
找出下列各圖形的面積。

3.



答案：_____ cm^2

4.



答案：約 _____ cm^2

在橫線上填上適當的面積單位「 m^2 」或「 cm^2 」。

5. 一扇門的面積約是 2 _____。
6. 一張學生證的面積約是 40 _____。
7. 一個足球場的面積約是 7140 _____。
8. 一張畫紙的面積約是 624 _____。

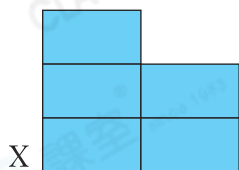
百科

俄羅斯是全世界陸地面積最大的國家，約是巴西的兩倍。

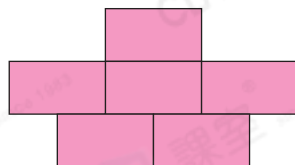
9. 以下哪個實物的面積是最大的？

- A. 身份證 ○ B. 郵票 ○ C. 報紙 ○ D. 一角硬幣

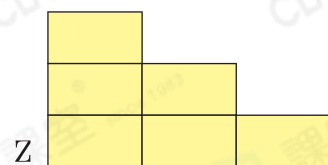
10.



X



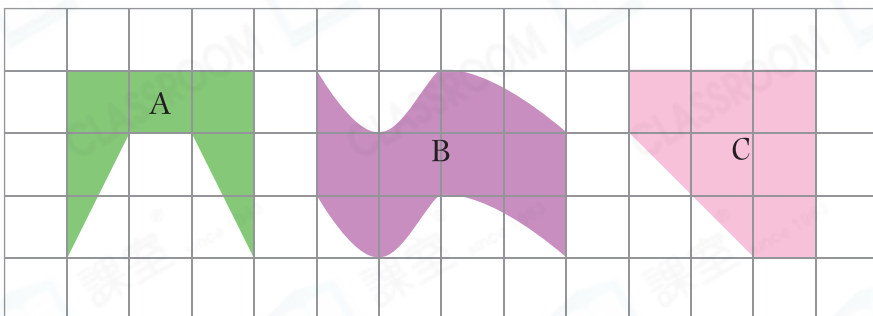
Y



Z

上面的平面圖形分別由大小相同的長方形拼砌而成，面積最小的是平面圖形★ X / Y / Z。(★圈出答案)

11. 比較平面圖形 A、B 和 C 的面積，由大至小排列出來。只須寫出代表答案的英文字母。



得分重點



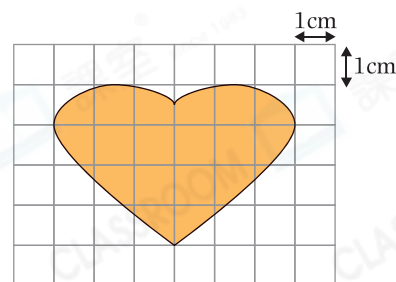
等於  的一半。

答案：_____，_____，_____。
(最大) (最小)

12. 右圖中，每個方格的邊長是 1cm，着色

部分的面積約是_____。

(答案須寫上單位)



13. 把右面長方形沿虛線剪開成 P 和 Q 兩部分。以下哪項描述是正確的？

- A. P 和 Q 的面積相等。
○ B. P 的面積比 Q 的小。
○ C. P 的面積比 Q 的大。
○ D. 無法比較 P 和 Q 的面積。

