

第一次小測 (4下數學科)

姓名：

日期：

班別：

 ()

成績：

 /26

時限：

15分鐘

(範圍：練習 1 - 3)

一、計算下列各題。(10分)

1. $(58 + 46) \div 8 =$ _____

2. $318 - 216 \div 12 =$ _____

3. $245 \div (31 - 24) =$ _____

4. $48 + 132 \div 6 + 34 =$ _____

5. $(34 + 41) \div (17 + 8) =$ _____

6. $3 \times (63 \div 7 \times 8) =$ _____

7. $18 \times 12 \div 6 =$ _____

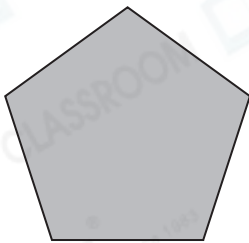
8. $88 \div 4 \div (21 - 19) =$ _____

9. $(210 - 35) \times (32 + 18) - 100 =$ _____

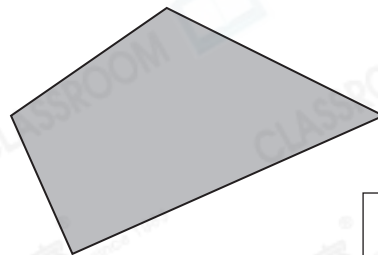
10. $(2 \times 51 + 10) \div 14 + 127 =$ _____

二、用直尺量度下列各圖的周界。(4分)

1.

 cm

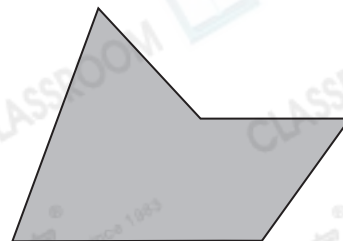
2.

 mm

3.

 cm

4.

 mm

三、列式計算下列各題。(12分)

1. 5包糖果共售160元，8包巧克力共售344元。子晴買一包糖果和
一包巧克力，共須付多少元？

2. 麵包店焗製了336塊曲奇餅，賣出120塊後，店員將餘下的曲奇餅
平均包裝成8盒，每盒曲奇餅有多少塊？

3. 一本相簿有24頁，俊東要放入225張相片，他最少要相簿多少本
才足夠放入這些相片？



每頁可放
4張相片

4. 叔叔在停車場泊車5小時，他共須付款多少？

停車場收費	
首小時	\$18
以後每小時 (不足1小時亦以 1小時收費計算)	\$24