

第二次小測 (4下數學科)

姓名：

日期：

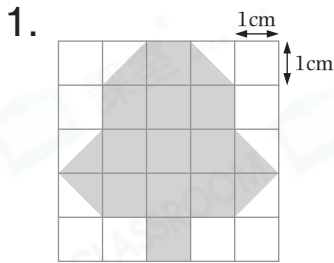
班別： ()

成績： /18

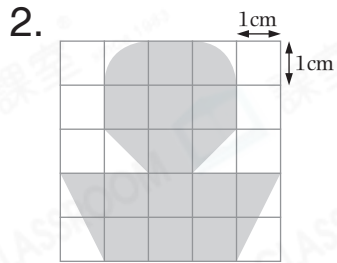
時限： 15分鐘

(範圍：練習 4 - 8)

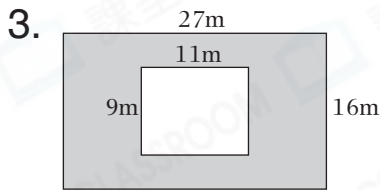
一、計算下列各圖中陰影部分的面積。(4分)



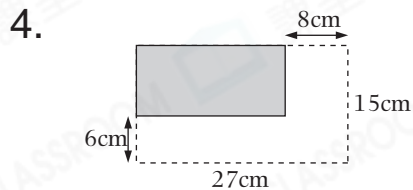
_____ cm^2



約 _____ cm^2

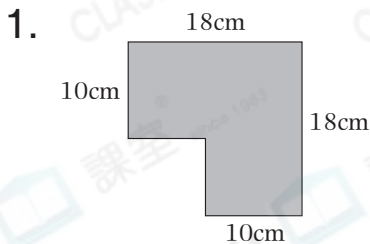


_____ m^2

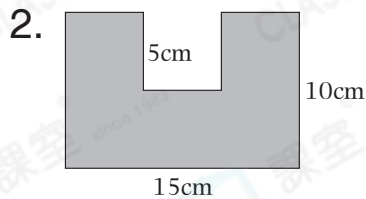


_____ cm^2

二、計算下列各圖形的周界。(2分)



_____ cm



_____ cm

三、列式計算下列各題。(12分)

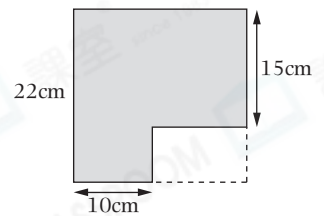
1. 一個正方形的邊長是20厘米，它的面積是多少平方厘米？



2. 右圖是一個長方形利是封，它的周界是多少？



3. 在右面的正方形中剪去一個長方形，餘下圖形的面積是多少？



4. 在右圖的長方形手工紙中，剪去一個其中兩邊各是22cm的等腰三角形後，餘下手工紙的周界是多少？

