



日期：_____

成績：_____



計算下列各題。

1. $\frac{2}{7} \times 5 =$

2. $10 \times \frac{1}{2} =$

3. $18 \times \frac{3}{4} =$

4. $20 \times 1\frac{5}{12} =$

5. $\frac{1}{3} \times \frac{5}{6} =$

6. $\frac{3}{4} \times 1\frac{1}{3} =$

7. $\frac{1}{5} \times 1\frac{4}{5} =$

8. $3\frac{1}{10} \times 1\frac{1}{4} =$

9. $\frac{6}{7} \times 1\frac{2}{5} =$

10. $10\frac{2}{3} \times 2\frac{7}{8} =$




列式計算下列各題。

11. 3盒糖果共重多少克？



3盒糖果共重：_____

145 $\frac{3}{5}$ 克12. 一個正方形的邊長是5 $\frac{3}{8}$ 厘米，它的周界是多少厘米？

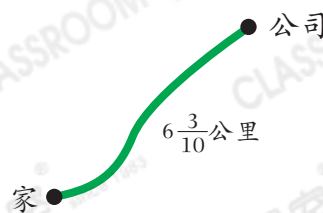
它的周界是：_____

13. 一瓶蘋果汁有1 $\frac{1}{4}$ 升，小君喝了其中的 $\frac{3}{5}$ ，即喝了蘋果汁多少升？

喝了蘋果汁：_____

14. 爸爸駕車由家出發前往公司，已行駛了 $\frac{4}{9}$ ，即行駛了多少公里？

行駛了：_____




15. 以下哪道算式最適合估計「 $1\frac{6}{7} \times 5\frac{2}{9}$ 」的值？

- A. 1×5 ○ B. 1×6 ○ C. 2×5 ○ D. 2×6

16. 把一盒豆奶平均分給5人，每人分得 $\frac{1}{4}$ L，即一盒豆奶原有 L。

17.



$1\frac{1}{2}$ 公斤



? 公斤


媽媽到超級市場買了以上的蘿蔔和馬鈴薯。

(a) 紅蘿蔔的重量佔蘿蔔的 $\frac{3}{5}$ ，即有 公斤紅蘿蔔。

(b) 馬鈴薯的重量是紅蘿蔔的 $1\frac{7}{18}$ 倍，即有 公斤馬鈴薯。

18. 家明每天做 $\frac{2}{3}$ 小時運動，一星期共做運動多少分鐘？

- A. 40 分鐘 ○ B. 200 分鐘 ○ C. 280 分鐘 ○ D. 320 分鐘

 19. 一盒月餅有8個，每個月餅切成4等份，志軒和弟弟共吃了6份，兩人共吃了月餅多少個？(列式計算)

得分重點

- ⊕ 先找出每份月餅佔整個的幾分之幾。

腦力挑戰站



詳盡提示

一桶油有 $2\frac{2}{3}$ L，用去 $\frac{1}{4}$ 後，餘下的油可以注滿容量是250mL的杯子多少個？

答案：_____ 個