

複習一

● 1上至4下課題



日期：_____



成績：_____ /17



時限： 20分鐘

範疇	評估重點	題目	得分
數	◇ 四則混合計算 ◇ 分數的認識	1-6	/10
度量	◇ 重量 ◇ 面積	7-8	/2
圖形與空間	◇ 立體圖形 ◇ 平行線和垂直線	9-11	/5



自我評估

13-17分



9-12分



0-8分



評分欄



1分



1分



1分



1分



1分



1分



1分



1分



1分

1. $132 + 485 \div 5 =$ _____

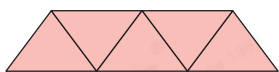
2. (a) 把 $5\frac{1}{8}$ 化為假分數。

答案：

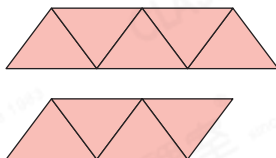
(b) 把 $\frac{29}{6}$ 化為帶分數。

答案：

3.



代表 1。



代表

。

4. 在「257.038」這個數中，

(a) 數字「2」是在_____位，而

(b) 數字「3」是在_____位。

5. 慧珊原有80元，買了四盒各售7元的豆奶後，還剩多少元？(列式計算)

6. 以下哪些數是4和14的公倍數？(圈出所有答案)

1

2

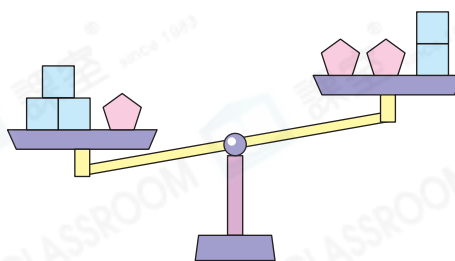
28

32

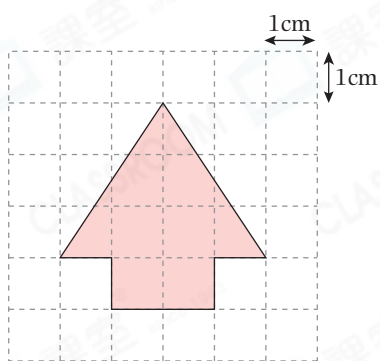
56

7. 細閱右圖，下列哪一項是正確的？

- A. 和 的重量相等。
- B. 比 輕。
- C. 比 重。
- D. 無法比較 和 的重量。




8.

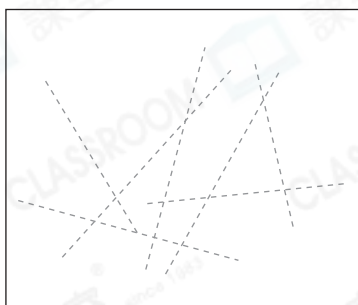


左圖中，每個小方格的邊長是1cm，着色部分的面積是_____。
(答案須寫上單位)

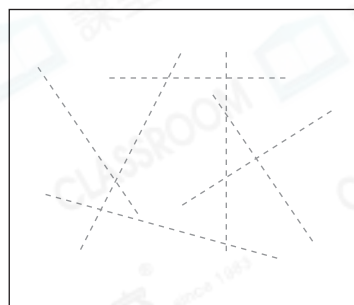
9. 右圖的立體圖形是由一個_____和兩個_____所組成。



10. (a) 在圖一，沿着虛線畫出一組垂直線。



圖一



圖二

(b) 在圖二，沿着虛線畫出一組平行線。

11. 以下哪種四邊形只有一組對邊平行？

- A. 正方形
- B. 梯形
- C. 長方形
- D. 菱形

1分

1分

1分

1分

1分

1分

1分

1分