

7

小數乘法(一)



日期：_____

成績：_____



計算下列各題。

$$\begin{array}{r} 1. \quad 0.18 \\ \times \quad 24 \\ \hline \end{array}$$



當一個小數和10、100或1000相乘時，只要把小數點向右移，便可求得答案。

例 $6.4 \times 10 = 64$ 小數點向右移一個位

$6.4 \times 100 = 640$ 小數點向右移兩個位

2. $6.5 \times 5 =$ _____

3. $0.1 \times 54 =$ _____

4. $8 \times 1.09 =$ _____

5. $3.26 \times 100 =$ _____



先估算下列各題的答案，然後再計算答案。

6. $8.2 \times 9 =$ _____

7. $4.73 \times 11 =$ _____

估算：8.2約是_____

答案約是：_____ $\times 9 =$ _____

估算：4.73約是_____

答案約是：_____ $\times 11 =$ _____

列式計算下列各題。

8. 爸爸買半打汽水，共須付多少元？



共須付：_____



\$6.70

9. 一瓶水剛好可注滿6個容量各是0.25升的杯子，這瓶水有多少升？



這瓶水有：_____

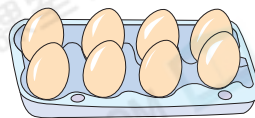
10. 德強每秒跑3.5米，他兩分鐘共跑了多少米？



他兩分鐘共跑了：_____

11. (a) 平均每隻雞蛋重 62.5g，右面的雞蛋共重多少？


答案：_____ kg



(b) 每隻雞蛋售 1.5 元，即這盒雞蛋的價值是多少元？

答案：_____ 元

12.



把上面的紙條沿虛線剪開，每段長 3.6 厘米，這條紙條長_____ 厘米。

13. 遠明 每天儲蓄 4 個 2 角硬幣，一星期後，他共儲蓄了多少元？(列式計算)


14.

永怡文具店

賀卡 每張 1.2 元
明信片 每張 5.5 元

永怡文具店印花卡

會員：高忠明



永怡文具店 有換購活動，每消費滿 20 元可得一個印花，用每個印花再加 2.8 元可換購一枝鉛筆。

(a) 志美 買了 18 張賀卡，應付_____ 元，可得到_____ 個印花。

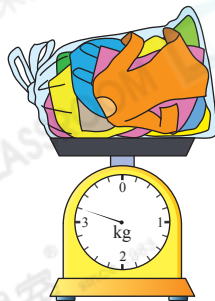
(b) 上圖是忠明 的印花卡，如果他使用所有印花換購鉛筆，他共須付多少元？

答案：他共須付_____ 元。



15. 李太太 拿一袋衣服到洗衣店清洗，她共須付多少？

答案：\$ _____



洗衣收費

每1公斤 \$13.50

*不足1公斤亦以1公斤計算