

複習一

● 1上至5上課題



日期：_____



成績：_____ /16



時限： 20分鐘

範疇	評估重點	題目	得分
數	◆ 整數四則混合計算 ◆ 分數的認識 ◆ 分數加法	1-6	/9
度量	◆ 時間 ◆ 面積	7-9	/3
圖形與空間	◆ 八個方向 ◆ 平面圖形	10-12	/4



自我評估

13-16分

9-12分

0-8分

1. $5\frac{1}{3} + \frac{1}{4} =$

2. $725 \div 25 + 11 =$ _____

3. 以下哪個數中的「5」是在十分位？

A. 4315.8

B. 431.58

C. 43.158

D. 4.3158

4. 列出 24 的所有因數。

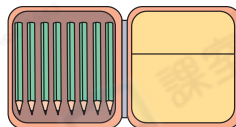
答案：_____

5. 在空格內填上適當的數字。

(a) $\frac{3}{8} = \frac{\text{□}}{72}$

(b) $\frac{117}{36} = \frac{13}{\text{□}}$

6. 文具店有 18 盒右面的鉛筆，售出 7 盒後，文具店還有鉛筆多少枝？（列式計算）



評分總



1分



1分



1分



1分



1分



1分



1分



1分



1分

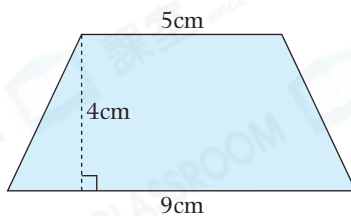
7. 文恩和弟弟去看電影，他們約定5時半在戲院門口會合。文恩到達的時間如右圖所示，她比原定時間★早 / 遲了_____分鐘。



(★圈出答案)

8. 右面梯形的面積是

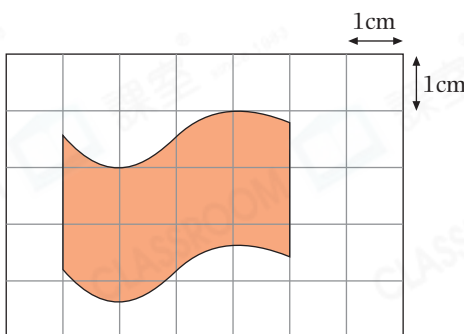
_____ cm^2 。




9. 右圖中，每個小方格的邊長是

1cm。着色部分的面積約是

_____ cm^2 。(以整數作答)




10. 箭嘴P指向北方，以下哪個箭嘴指向東北方？




A.




B.




C.



D.



11. 在右圖中加上兩條直線，與原來的直線組成一個等腰三角形。



12. 一個四邊形的四條邊長度相等，它可能是一個_____形或_____形。



1分



1分



1分



1分



1分



1分



1分