

應用題訓練一



日期：_____

成績：_____

○ 小數乘法

1. 霍太太昨天健身 0.5 小時，今天健身的時間是昨天的 2.5 倍，她今天健身的時間是多少小時？



圖解

昨天

0.5 小時

今天

? 小時

2. 爸爸到超級市場買牛奶。

(a) 一盒牛奶有 250 毫升，一箱牛奶共有多少升？



特價 \$55.90

\$65.50


提示

留意統一單位及數據的選取。

(b) 爸爸以特價購買了 3 箱牛奶，共須付款多少？

答案：\$ _____

3. 快餐店在十月平均每天用去 0.32L 醬油，即共用去醬油多少？



提示

留意十月的天數。

4. 每包砂糖重 1.2kg，廚師上午和下午各用了 3 包來煮糖水，共用了砂糖多少？



圖解

上午

1.2kg

1.2kg

1.2kg

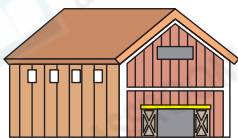
下午

1.2kg

1.2kg

1.2kg

? kg



9.6公里



5. 貨車在貨倉和碼頭之間來回4次，共行駛了多少公里？

Blank area for the answer to question 5.

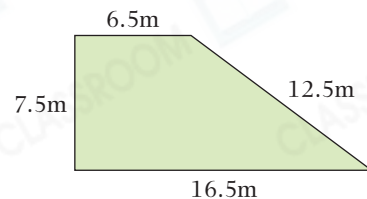
提示

先找出貨車共行駛了多少個「9.6公里」。

6. 在右圖梯形草地上用柵欄圍出一個最大的正方形花園。

(a) 圍出花園最少須要_____m柵欄。

(b) 花園的面積是多少？



Blank area for the answer to question 6.

提示

留意最大正方形的邊長和梯形哪條邊的長度相等。

7.

租用單車收費

| 單車類型 | 收費 |
|------|---------------|
| 雙人單車 | 每輛每小時 \$20.50 |
| 家庭單車 | 每輛每小時 \$32.60 |

浩文一家在 12:00 至 15:30 租用一輛家庭單車。他們共應付款多少？

Blank area for the answer to question 7.

提示

找出租用單車多少小時。