

6

摺紙圖樣



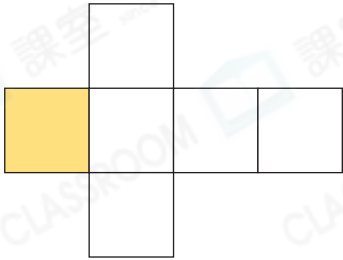
日期：_____

成績：_____




寫出下列各摺紙圖樣可摺出的立體的名稱，並在黃色面對應的底上加上「✓」。

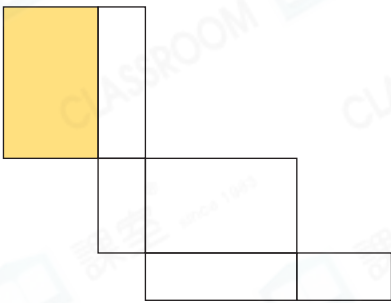
1.



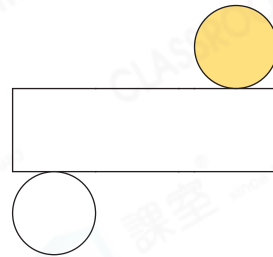
2.



3.



4.





繪畫出以下各立體的摺紙圖樣。

5. 正方體

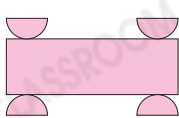


6. 長方體

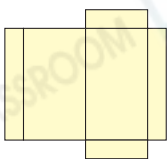


7. 以下哪個摺紙圖樣不可以摺出一個立體？

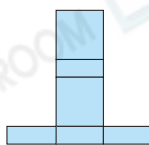
○ A.



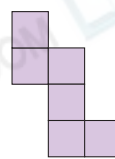
○ B.



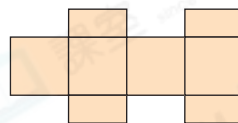
○ C.



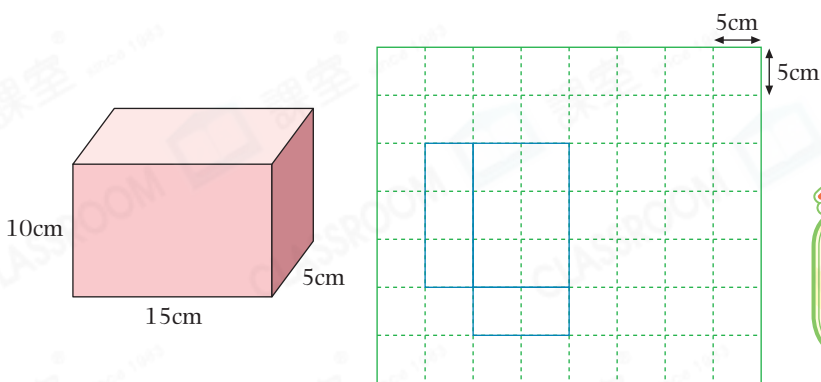
○ D.



8. 右面的摺紙圖樣可摺出一個_____，
它的側面是_____形。



9. (a) 妹妹製作了左面的紙盒。在右面的方格紙上，完成紙盒的摺紙圖樣。

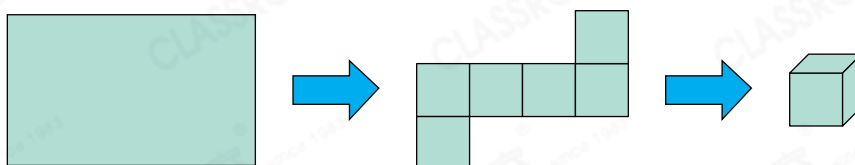


得分重點

長方體紙盒相對的面大小和形狀相同。

(b) 這個摺紙圖樣的面積是_____ cm^2 。

10. 進階



用一張長 69cm、闊 48cm 的長方形卡紙，剪出一個如上的正方體摺紙圖樣。這個摺紙圖樣摺出的正方體的邊長最長可以是_____ cm。

腦力挑戰站



詳盡提示

以下哪些正方體是由右面的摺紙圖樣摺出的？
(圈出所有答案)

