



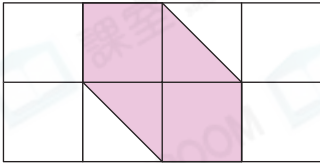
日期：_____

成績：_____



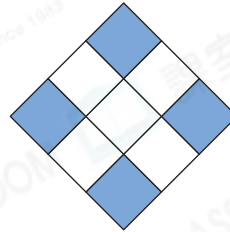
寫出下列各圖着色部分佔該圖的百分之幾。

1.



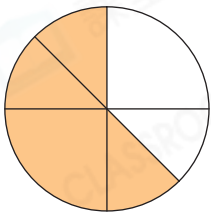
答案：_____ %

2.



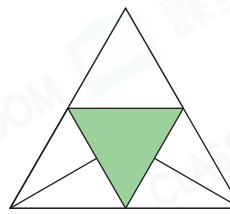
答案：_____ %

3.



答案：_____ %

4.



答案：_____ %



列式計算下列各題。

5. 家中原有 600 毫升橙汁，家明喝去 360 毫升。喝去的橙汁佔原有的百分之幾？

喝去的橙汁佔原有的：_____

6. 數學測驗卷有 48 道題目，志聰答對了 36 道，答錯的題目佔全部題目的百分之幾？

答錯的題目佔全部題目的：_____

7. 6D 班有 12 名男生和 20 名女生，女生佔全班人數的百分之幾？



女生佔全班人數的：_____

8. 糖果店原有 250 顆糖果，售出一些後餘下 185 顆。餘下的糖果佔原有的百分之幾？



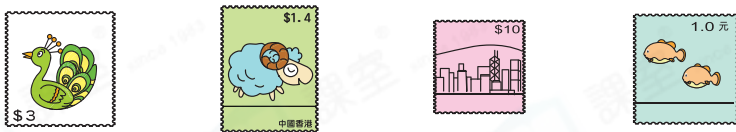
餘下的糖果佔原有的：_____

9. 以下是心蘭收集的郵票：



(a)  佔全部郵票的 _____ %。

(b) 哪兩種郵票的總數量剛好是全部的 70%？(圈出答案)



10. 媽媽把一個蛋糕平均分成 16 件。哥哥吃了 3 件，妹妹吃了 1 件。他們共吃了整個蛋糕的 _____ %。

11. 一條長 10cm 的熱狗，加熱後，長度增加了 5mm，即增長了百分之幾？

答案：_____ %

12. 80 名受訪者中，有 20 名是男性，有 30 名配戴眼鏡。配戴眼鏡的受訪者佔全部受訪者的百分之幾？

- A. 37.5% ○ B. 50% ○ C. 60% ○ D. 62.5%

13. 一台電腦原價 \$5600，陳小姐以優惠價 \$4760 買了這台電腦，電腦售出的價錢便宜了 _____ %。

14. 姨母買了一包 A4 紙，表哥用去 $\frac{2}{5}$ 包後，姨母用去餘下的 75%。姨母用去整包 A4 紙的百分之幾？(列式計算)