

1

小數除法(一)



日期：_____

成績：_____



計算下列各題。

1.

$$9 \overline{) 1.17}$$

2.

$$15 \overline{) 16.2}$$



加油站

計算除法後，可以利用乘法驗算。

例 $1.4 \div 2 = ?$

$$\begin{array}{r} 0.7 \\ 2 \overline{) 1.4} \\ \underline{1.4} \\ 0 \end{array}$$

驗算

$$\begin{array}{r} 0.7 \\ \times 2 \\ \hline 1.4 \end{array}$$

3. $5.7 \div 3 =$ _____

4. $15 \div 6 =$ _____

5. $21 \div 5 =$ _____

6. $1.04 \div 4 =$ _____

7. $13.3 \div 7 =$ _____

8. $3.28 \div 8 =$ _____

9. $42 \div 1000 =$ _____

10. $50.5 \div 100 =$ _____



列式計算下列各題。

11. 學軒付18元買了4枝鉛筆，平均每枝鉛筆售多少元？



平均每枝鉛筆售：_____

12. 一條馬路長14.4km，工人每小時修築2km，需用多少小時才修築完這條馬路？



需用：_____

13. 糖果店店主購入了6.48公斤巧克力，然後他把這些巧克力平均分成27包，每包巧克力重多少公斤？

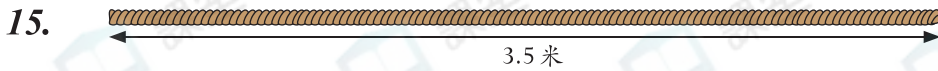


每包巧克力重：_____

14. 老師將2.25kg綠豆平均分給15組學生栽種，每組分得綠豆多少？



每組分得綠豆：_____

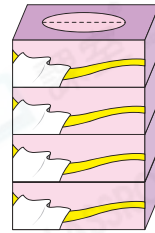


把上面的繩子平均剪成7段，每段長多少米？

答案：_____米

16. 四盒裝紙巾的售價是27元6角。

平均每盒紙巾售_____元_____角。



17. 以下是2月四戶住戶須付的電費，以個人計算，哪一戶住戶的平均電費最低？

住戶	人數	總電費
<input type="radio"/> A. 李家	2人	\$45.6
<input type="radio"/> B. 陳家	4人	\$94
<input type="radio"/> C. 王家	3人	\$52.5
<input type="radio"/> D. 林家	6人	\$117

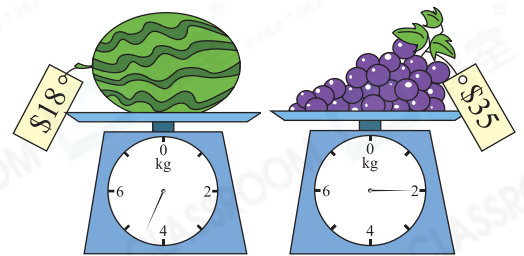
18. 貨倉有425kg白米，如果工人每次搬運50kg，最少要搬運多少次才可把白米全部搬出貨倉？


答案：_____次

19. 媽媽買了右面的西瓜和葡萄。

(a) 西瓜的重量是葡萄的_____倍。

(b) 每公斤葡萄售\$_____。



 20. 爺爺去郊野公園行山，他在自然教育徑上來回走了兩次，共走了2.6km，這條自然教育徑長多少？(列式計算)