



日期：\_\_\_\_\_

成績：\_\_\_\_\_

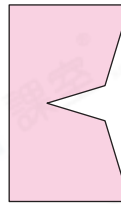


下面的圖形各是從哪張手工紙上剪下來的？連一連。

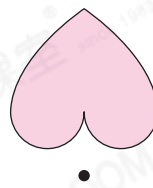
1.



2.



3.

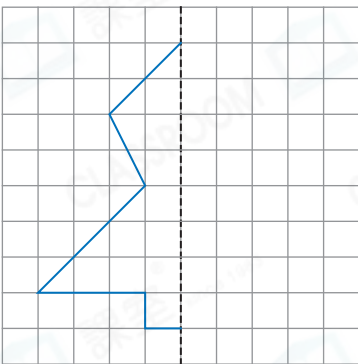


4.

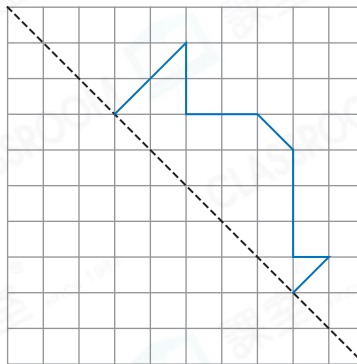


以虛線為對稱軸，在方格紙上完成下面的軸對稱圖形。

5.




6.




在釘板上畫出指定的軸對稱圖形。

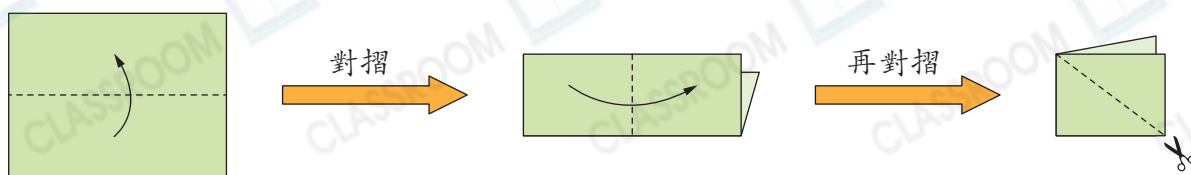
7. 有三條對稱軸的三角形。



8. 只有一條對稱軸的四邊形。




9. 用長方形手工紙剪出軸對稱圖形。




根據上圖的指示，可剪出☆  /  /  (☆ 圈出答案)。

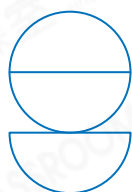
10. 右圖顯示一個軸對稱圖形的一部分，虛線是該圖形的對稱軸，以下哪一個會是該軸對稱圖形？



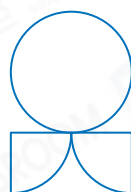
○ A.



○ B.




○ C.



○ D.



11. (a) 用五個邊長各是2cm的正方形拼砌出兩個不同的軸對稱圖形，對稱軸的數量須不同，並畫在下面的方格紙上。



(b) 在(a)部分拼砌出的軸對稱圖形上，加畫所有的對稱軸。

腦力挑戰站



詳盡提示

右圖由大小相同的圓形組成。在圖中加上圓形，使其組成一個軸對稱圖形，並畫出所有對稱軸。

