

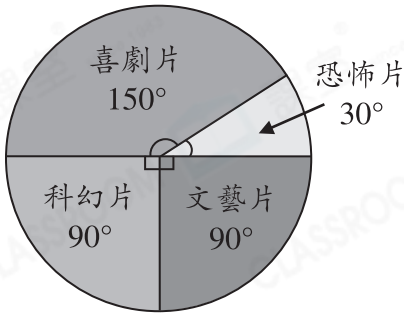
姓名: _____

日期: _____

班別: _____

熱身練習

1. 6A班學生最喜愛的電影類型



左圖顯示6A班學生最喜愛的電影類型。

(a) 最多學生喜愛的電影類型是 _____。

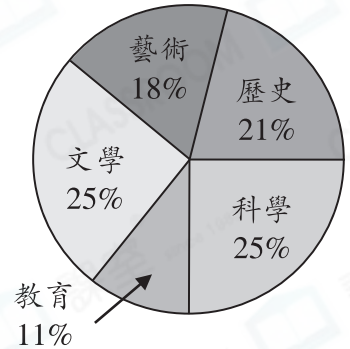
(b) 喜愛科幻片的學生佔全班人數的 _____ %。

2. 右圖顯示圖書館各類圖書的數量。

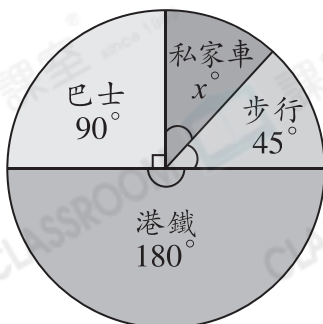
(a) _____ 類圖書的數量最少。

(b) _____ 類和 _____ 類圖書的數量相同，分別佔全部圖書的 _____ %。

圖書館各類圖書的數量



3. 某公司員工上班的方式



左圖顯示某公司員工上班的方式。

(a) x 的值是 _____。

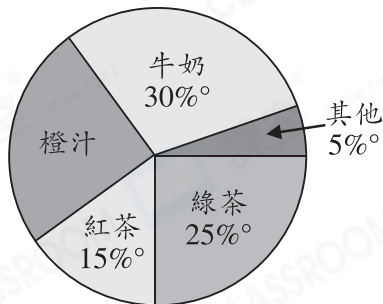
(b) 乘坐 _____ 上班的員工人數是步行上班的2倍。

(c) 乘坐公共交通工具的員工佔總人數的 _____ %。

能力升級

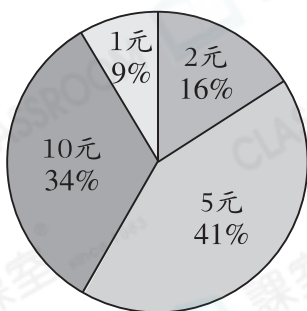
4. 便利店上月售出 500 瓶飲品。下圖顯示便利店上月各類飲品的銷量。

便利店上月各類飲品的銷量




- (a) 橙汁的銷量佔總銷量的 _____ %。
- (b) 便利店上月茶類飲品的銷量佔總銷量的 _____ %。
- (c) 銷量最多的飲品與紅茶的銷量相差 _____ %。
- (d) 便利店上月共售出 _____ 瓶牛奶。
5. 芝妍和姊姊各儲蓄了 100 個硬幣，以下的圓形圖分別顯示她們儲蓄各種硬幣的數量。

芝妍儲蓄的硬幣



姊姊儲蓄的硬幣



- (a) 芝妍共有 _____ 個 5 元硬幣。
- (b) 姊姊有的 10 元硬幣共值 _____ 元。
- (c) 誰儲蓄的硬幣款項較多，有多少元？

答案：* 芝妍 / 姊姊 (* 圈出答案)，有 _____ 元。