

# 6 方向

常考題



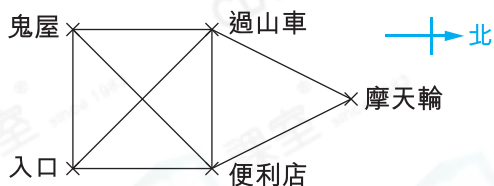
第3、5題

▶ 八個方向

## 重點重溫

📍 閱讀地圖時，須先確認北方 (North) 的位置，再找出其餘方向 (Direction) 的位置。

例



沒給方向標示時，先根據題意，畫出方向標示。

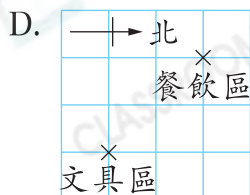
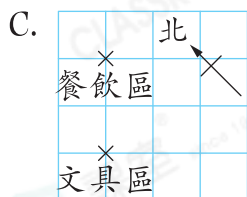
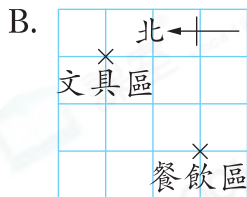
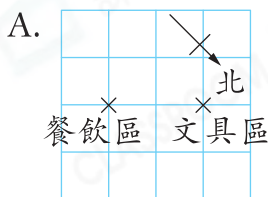
便利店在入口的北方，偉恒從入口向西北方走，可到達哪一個地方？

答案： 過山車

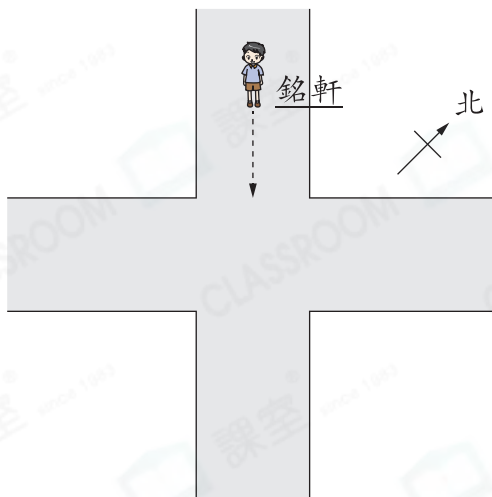
## 選擇題

選出正確的答案填在空格內。(18分，每題2分)

1. 文具區在餐飲區的東北方，下列哪一幅地圖是正確的？



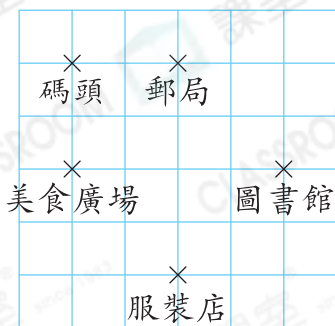

新 2.



在上圖，當銘軒步行到分岔路口時，他會轉右繼續步行。他會轉向哪一方步行？

- A. 東
- B. 西
- C. 西南
- D. 東北

3.



如上圖，郵局在碼頭的南方。美食廣場的西南方是什麼地方？

- A. 碼頭
- B. 郵局
- C. 圖書館
- D. 服裝店

4. 承上題，小美在圖書館，她要去郵局，她應往哪個方向走，路程才是最短的？

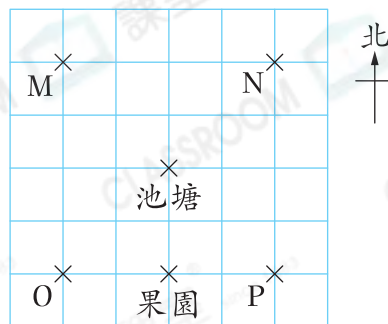
- A. 東
- B. 西
- C. 東北
- D. 西南

5.

子華在美英的西南方5m，敏玲在子華的東南方5m，即敏玲在美英的哪一方？

- A. 南
- B. 北
- C. 西北
- D. 東北

6.



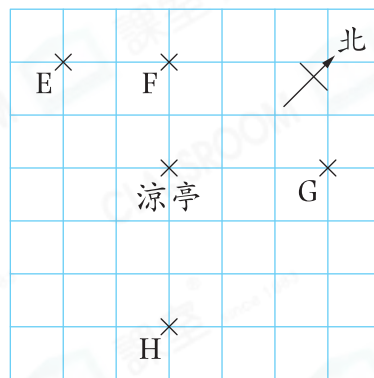
家恆要去果園，行了一段時間後，家恆發現池塘在他的東北方。他當時是在地圖中的哪一個位置？

- A. M
- B. N
- C. O
- D. P

逆向思考法

「池塘在家恆的東北方」，即他在池塘的西南方。

7.

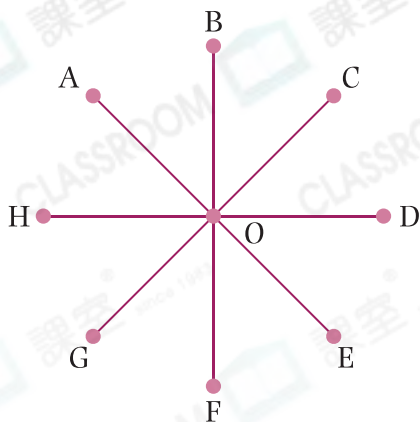


E、F、G和H四人約定在涼亭集合。結果向東南方走的人最先到達涼亭，那麼誰最先到達？

- A. E
- B. F
- C. G
- D. H



8.



如果D在H的西南方，A在E的哪一方？

- A. 東
- B. 西
- C. 東北
- D. 西北



9.



建明用指南針測方向，當他把指南針放在掌上的時候，指南針白色的指針指着南方，那麼他的無名指是指向哪一方？

- A. 西
- B. 南
- C. 東南
- D. 西南



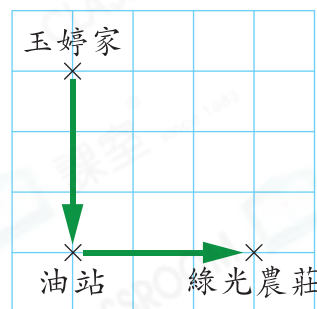
## 短答及列式計算題

除特別指明外，在回答本部問題時，須列出計算步驟。(6分)

10. 玉婷駕車前往綠光農莊採摘草莓。她先駕車到油站，再轉往農莊，如右圖所示。

(a) 油站在玉婷家的東南方。玉婷離開油站，前往綠光農莊時，她應駕車往哪一個方向行駛？(只須寫出答案)【2分】

答案：\_\_\_\_\_方



(b) 玉婷共採摘了16盒草莓，每盒草莓的數量是25以內最大的質數。她共採摘了草莓多少顆？(只須寫出答案)【2分】

答案：\_\_\_\_\_顆

(c) 摘完草莓後，玉婷希望以最短的路線返回家，她應駕車往哪一個方向行駛？(只須寫出答案)【2分】

答案：\_\_\_\_\_方



第9題：不要誤以指南針上的英文字母作為正確方向。