


複習 4 方向



四個主要方向

重點重溫

四個主要方向包括：東(East)、南(South)、西(West)、北(North)



雪芬在志聰的北方，立勤在雪芬的哪一方？

答案： 東 方

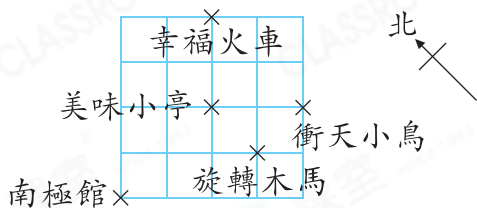


先從題目資料中找出北方的方向，再畫出方向標示，方便解題。

選擇題

選出正確的答案填在空格內。(16分，每題2分)

1.



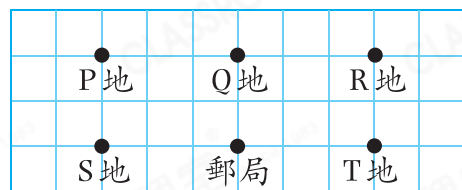
上圖中，衝天小鳥的西方是什麼地方？

- A. 南極館
- B. 旋轉木馬
- C. 幸福火車
- D. 美味小亭

2. 承上題，可欣站在美味小亭並面向旋轉木馬，她的左面是哪一方？

- A. 東
- B. 南
- C. 西
- D. 北

3.



郵差從郵局出發，先向東方走到Q地，再向北方走可到達哪一個地方？

- A. P地
- B. R地
- C. S地
- D. T地

4. 爸爸面向南方，他的前面是便利店，他在便利店的哪一方？

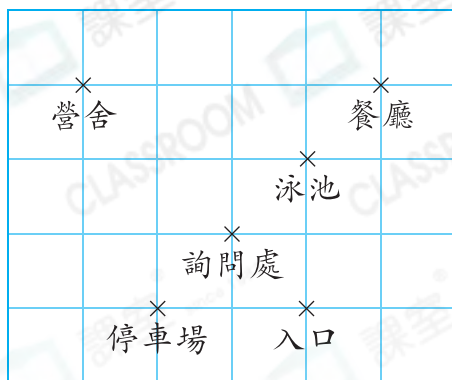
- A. 東
- B. 南
- C. 西
- D. 北

圖像法

畫出爸爸和便利店的位置草圖，幫助解題。

第1題：留意方向標示是斜放的。

5.



如果詢問處在停車場的北方，
詢問處的東方是什麼地方？

- A. 營舍
B. 入口
C. 泳池
D. 餐廳

6. 承上題，家慧在詢問處，她要去餐廳，她應向哪個方向走，
路程才是最短的？

- A. 東
B. 南
C. 西
D. 北

7.



健聰用指南針測方向，當他把指南針放在手掌上的時候，指南針着色的指針指着北方，那麼他的中指指向哪一方？

- A. 東
B. 南
C. 西
D. 北

8. 浩然由家出發跑步，先往北方跑1km，再向西方跑1km，最後往南方跑1km。他現在在家的哪一方？

- A. 東
B. 南
C. 西
D. 北

短答及列式計算題

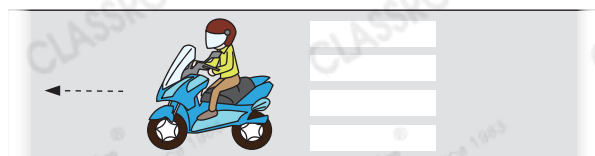
除特別指明外，在回答本部問題時，須列出計算步驟。(2分)

9. 右圖中，永康正面向南方等候橫過斑馬線，有一輛電單車向他的右面駛去。電單車正向哪一方行駛？(只須寫出答案)【2分】

答案：_____方



永康



第9題：永康的右面即我們的左面。