

複習 5 統計圖



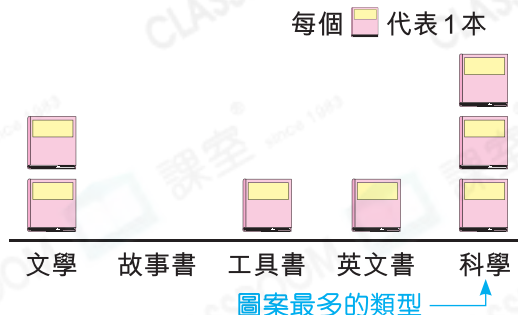
- ▶ 閱讀和製作象形圖
- ▶ 閱讀和製作棒形圖

重點重溫

- 象形圖 (Pictogram) 和棒形圖 (Bar chart) 都需要寫上標題。
- 象形圖以圖案代表物件的數目，棒形圖則以棒表示。

例 今天哪類圖書借出的數量最多？
答案： 科學

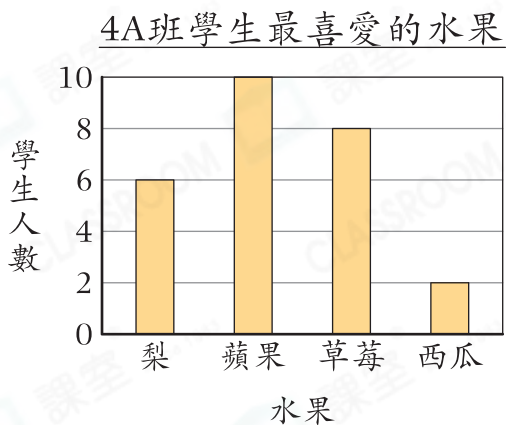
圖書館今天借出各類圖書的數量



選擇題

選出正確的答案填在空格內。(12分，每題2分)

根據下圖，回答第1—3題。



1. 4A班學生以一人一票的方式選出他們最喜愛的水果，結果如上。已知投票當日有3名學生請假而缺席投票。4A班共有學生多少人？

- A. 24
- B. 26
- C. 28
- D. 29

2. 4A班最喜愛蘋果的學生和最喜愛西瓜的相差多少人？

- A. 8
- B. 6
- C. 4
- D. 2

3. 下列哪一個標記可以表示最喜愛梨的學生人數？


- A.
- B.
- C.
- D.



根據下圖，回答第4—6題。

美琪購買各種飲品的數量



4. 上圖中橙汁的記錄畫錯了，若美琪共買了15瓶飲品，應在橙汁一欄補上  多少個？

- A. 1
B. 2
C. 3
D. 4

5. 美琪購買茶類飲品的數量佔全部飲品的幾分之幾？

- A. $\frac{1}{15}$
B. $\frac{4}{15}$
C. $\frac{6}{15}$
D. $\frac{6}{13}$

6. 美琪購買的飲品中，數量最多和最少的相差多少瓶？

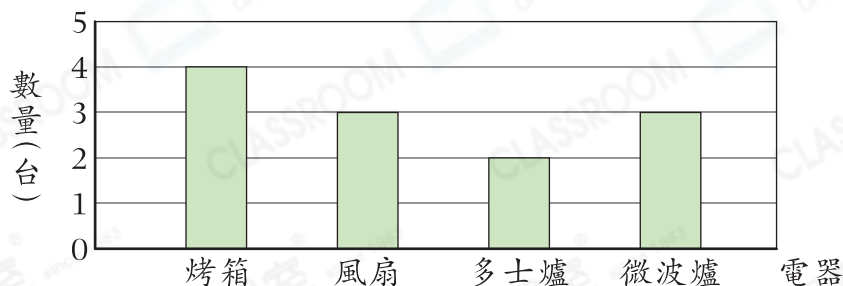
- A. 1
B. 2
C. 3
D. 4

短答及列式計算題

除特別指明外，在回答本部問題時，須列出計算步驟。(4分)

7.

慈善義賣中各款電器的數量



(a) 哪兩款電器的數量是相同的？(只須寫出答案)【2分】

答案：_____和_____

(b) 每台多士爐售116元8角，全部售出可籌款多少？(只須寫出答案)

答案：_____元_____角

【2分】