

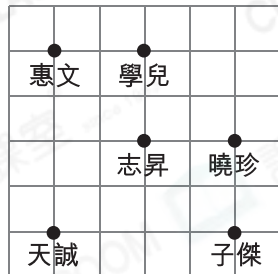
複習 6 方向



重點重溫

閱讀地圖時，須先確認北方 (North) 是哪個方向，再找出其餘方向 (Direction)。

例



北方不一定是圖的上方。

曉珍在志昇的北方。誰在志昇的西南方？

答案： 惠文

選擇題

選出正確的答案填在空格內。(12分，每題2分)

1. 如果偉文在日出時背向太陽的方向站立，那麼偉文的右面是哪一方？

- A. 東
- B. 南
- C. 西
- D. 北

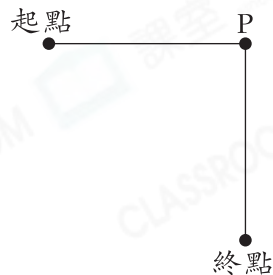
2. 在遊樂場內，餐廳在過山車的西南方，而海盜船在過山車的東北方，海盜船在餐廳的哪一方？

- A. 東南
- B. 東北
- C. 西南
- D. 西北

圖像法

畫出圖像幫助解題。

3.

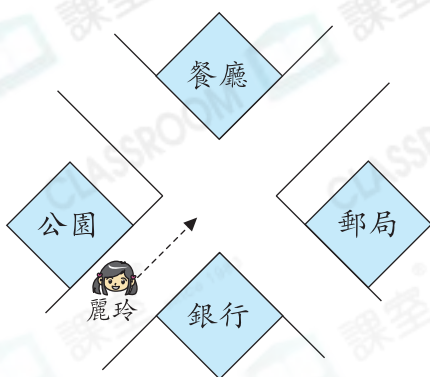


偉華在操場做體能測試，他從起點向東北方跑50m到達P點，再向東南方跑50m到達終點。完成後，他想以最短的路線返回起點，他該往哪一個方向走？

- A. 東
- B. 西
- C. 東南
- D. 西北



4.



上圖中，麗玲正沿路向西方走，當她到達岔路口時，她應向什麼方向走才能到達郵局？

- A. 北
B. 南
C. 東南
D. 西北



5. 樂天的左面是西北方，他的前面是哪一方？

- A. 南
B. 北
C. 西南
D. 東北



6. 子晴面向西北方，她依順時針方向自轉一圈半後，她面向哪一方？

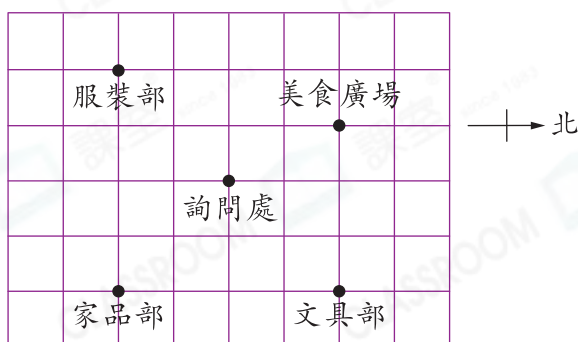
- A. 東南
B. 東北
C. 西南
D. 西北



短答及列式計算題

除特別指明外，在回答本部問題時，須列出計算步驟。(4分)

7.



(a) 子傑去文具部買筆盒，走了一段時間後，他發現詢問處在他的西北方。他當時在地圖中哪一個地方？(只須寫出答案)【2分】

答案：_____

逆推法

找出子傑在詢問處的哪一方。

(b) 買了筆盒後，子傑想到美食廣場吃晚餐，他應往哪一個方向走，路程是最短的？(只須寫出答案)【2分】

答案：_____方