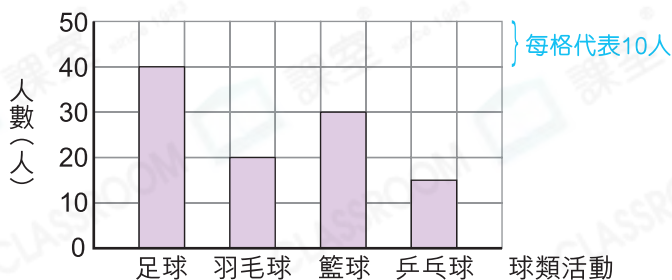


複習 8 象形圖和棒形圖

重點重溫

閱讀或製作棒形圖 (Bar chart) 時，除了注意每格所代表的數量，也要清楚橫軸和縱軸分別代表的項目。

例 五年級同學最喜歡的球類活動



留意每格代表的數量。

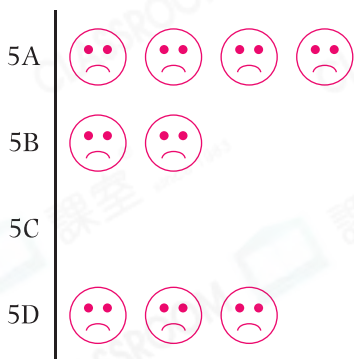
選擇題

選出正確的答案填在空格內。(12分，每題2分)

根據下圖，回答第1—3題。

五年級各班在上月的遲到人數

每個 😞 代表1人



1. 5A班的遲到人數是5B班的多少倍？

- A. 4
- B. 3
- C. 2
- D. 1

2. 上月哪一班學生整體上最守時？

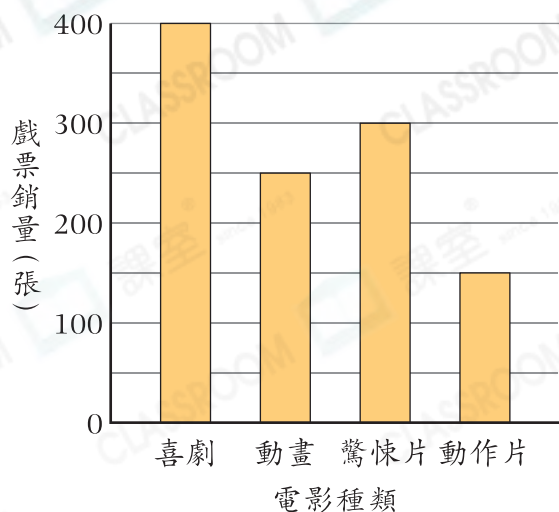
- A. 5A
- B. 5B
- C. 5C
- D. 5D

3. 上月遲到人數最多的班別與遲到人數最少的班別比較，它們的遲到人數相差多少人？

- A. 1
- B. 2
- C. 3
- D. 4



4. 昨天各類電影戲票的銷量



昨天銷量最高的兩類電影的戲票總銷量是多少張？

- A. 400
B. 650
C. 700
D. 1100

下表是嘉嘉上學期的考試成績。根據下表，回答第5—6題。

科目	中文	英文	數學	常識
分數(分)	90	85	95	80

5. 如果嘉嘉想用棒形圖來表示她的考試成績，下列哪一個數值最適合用來表示每格代表的分數？

- A. 10
B. 4
C. 2
D. 1

6. 下列哪一項最適合用作棒形圖的標題？

- A. 考試成績
B. 四科的考試成績
C. 嘉嘉的分數
D. 嘉嘉上學期的考試成績

短答及列式計算題

除特別指明外，在回答本部問題時，須列出計算步驟。(4分)

7. 右圖是健文上星期做運動的時間。

(a) 健文做哪一種運動的時間最長？
(只須寫出答案)【2分】

答案：_____

(b) 健文做哪一種運動的時間是跑步的一半？(只須寫出答案)【2分】

答案：_____

健文上星期做運動的時間

