



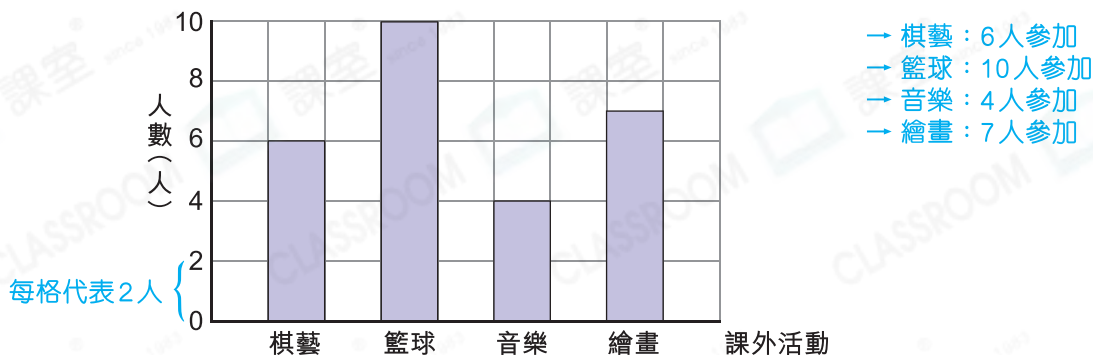
- ▶ 棒形圖
- ▶ 複合棒形圖

### 重點重溫

閱讀或製作棒形圖 (Bar chart) 時，必須注意每格所代表的數量。



6A班學生參加的課外活動

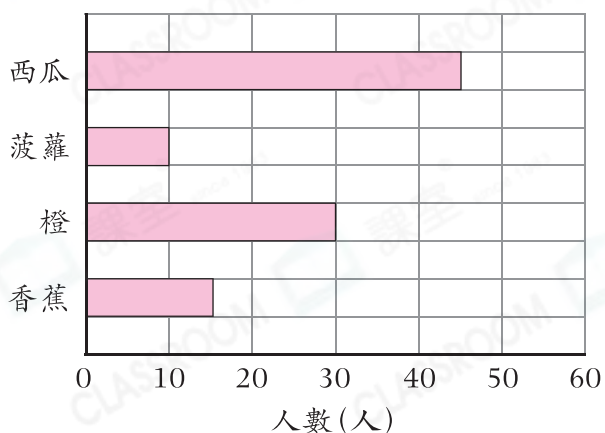


### 選擇題

選出正確的答案填在空格內。(12分，每題2分)

根據下圖，回答第1—3題。

學生最喜愛的水果



1. 最喜愛橙和最喜愛菠蘿的學生人數相差多少人？

- A. 2
- B. 10
- C. 20
- D. 30

2. 如果每人只選擇了一種水果，那麼參與統計的學生有多少名？

- A. 10
- B. 100
- C. 150
- D. 200

常考

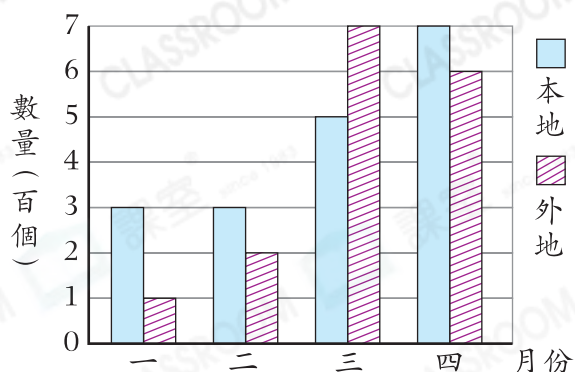
3. 最喜愛西瓜的學生人數是最喜愛菠蘿的多少倍？

- A.  $\frac{2}{9}$
- B.  $\frac{1}{3}$
- C. 3
- D.  $4\frac{1}{2}$



根據下圖，回答第4—6題。

百鳥公園接待的旅行團數量



4. 百鳥公園在一月至四月接待的本地旅行團比外地旅行團多多少個？

- A. 1  
B. 2  
C. 100  
D. 200

5. 哪一個月接待的本地旅行團數量是外地旅行團的3倍？

- A. 一月  
B. 二月  
C. 三月  
D. 四月

6. 百鳥公園第一季共接待了旅行團多少個？

- A. 1600  
B. 1800  
C. 2100  
D. 3400

## 短答及列式計算題

除特別指明外，在回答本部問題時，須列出計算步驟。(6分)

7. (a) 在星期一至五，哪天的入場人次最多？(只須寫出答案)【2分】

答案：星期\_\_\_\_\_

(b) 統計圖部分被塗污了，如果星期五的入場人次是星期六的一半，那麼星期六的入場人次是多少？(只須寫出答案)【2分】

答案：\_\_\_\_\_人次

(c) 展覽館可能在星期幾閉館？(只須寫出答案)【2分】

答案：星期\_\_\_\_\_

展覽館上星期的入場人次

