



4. 已知 $\frac{3}{16}$ 等於18.75%，把 $\frac{3}{1600}$ 寫成百分數。

- A. 1875%
B. 187.5%
C. 1.875%
D. 0.1875%

5. 下表顯示玉芬上月各項目的支出分布。

項目	支出分布
零食	15%
文具	0.3
交通	20%
儲蓄	$\frac{7}{20}$

她在哪一個項目的支出最多？

- A. 零食
B. 文具
C. 交通
D. 儲蓄

6. 在服裝店的所有外套中，大碼外套佔全部的64%，其餘的都是中碼外套，中碼外套佔全部的百分之幾？

- A. 18%
B. 32%
C. 36%
D. 64%

7. 錦榮吃去全個薄餅的七成半，即吃去全個薄餅的百分之幾？

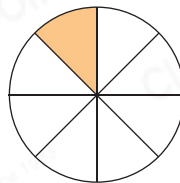
- A. 75%
B. 70%
C. 7.5%
D. 7%

8. 下列哪一個數的值最大？

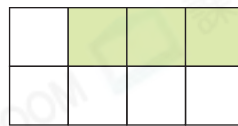
- A. 0.22
B. $\frac{1}{4}$
C. 12%
D. 2.2

9. 下列哪一個圖形的着色部分佔全圖的12.5%？

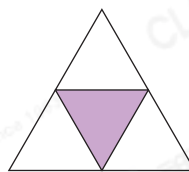
A.




B.



C.



D.



10. 下列哪一個數在110%和1.6之間？

- A. 105%
- B. $1\frac{7}{100}$
- C. 1.5
- D. 1.08

11. 六甲班有62%是男生，男生和女生的人數相差百分之幾？

- A. 24%
- B. 38%
- C. 62%
- D. 100%

12. $\frac{2}{5} - 25\% + 0.5 = ?$

- A. 0.29
- B. 0.45
- C. 0.65
- D. 1.55

13. 若把 $\frac{P}{8}$ 化為小數，該小數會介乎0.3和0.5之間。下列哪一個數可能是P的值？

- A. 1
- B. 3
- C. 5
- D. 7

代入法

將各選項的數代入P，再化為小數。

短答及列式計算題

除特別指明外，在回答本部問題時，須列出計算步驟。(18分)

14. 右面是外婆購買的各類食物的重量。

(a) 哪一類食物的重量最接近1kg？
(只須寫出答案) [2分]

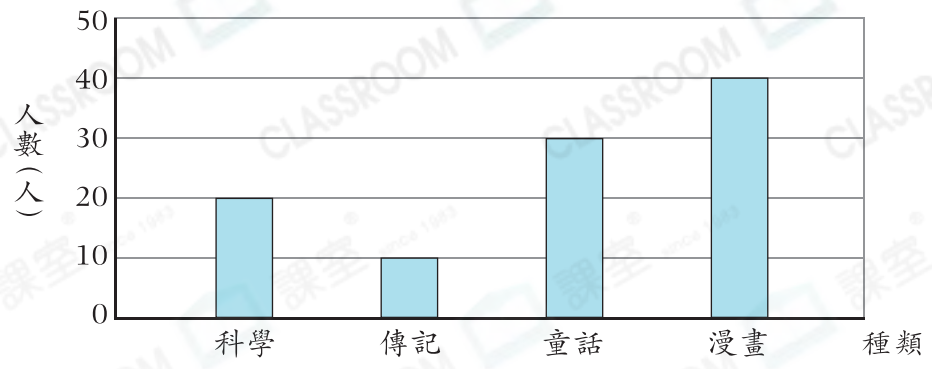
答案：_____

(b) 在外婆購買的肉類中，牛肉和雞肉各佔20%，其餘的是豬肉。豬肉佔全部肉類的百分之幾？ [4分]

食物	重量(kg)
肉類	1.35
蔬菜	$1\frac{1}{5}$
紅豆	0.9
水果	$\frac{3}{4}$

15.

同學最喜愛閱讀的圖書



(a) 如果每人只選擇一類最喜愛閱讀的圖書，這次調查共訪問了多少人？
(只須寫出答案) 【2分】

答案：_____人

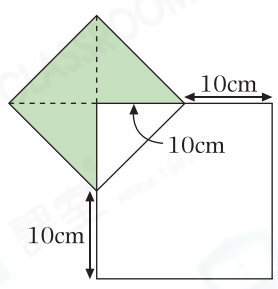
(b) 最喜愛科學圖書的同學佔全部的百分之幾？(只須寫出答案) 【2分】

答案：_____ %

(c) 最喜愛童話和最喜愛漫畫的同學共佔全部的百分之幾？(只須寫出答案) 【2分】

答案：_____ %

16.



上圖是由一個大正方形和一個小正方形重疊而成。

(a) 大正方形的周界是多少？(只須寫出答案) 【2分】

答案：_____ cm

(b) 小正方形的面積是多少？(只須寫出答案) 【2分】

答案：_____ cm²

(c) 着色部分佔小正方形的百分之幾？(只須寫出答案) 【2分】

答案：_____ %