

複習 7 方向



重點重溫

利用指南針 (Compass) 測方向 (Direction) 時，應先把有標記的指針對正「N」。



東南(SE)、東北(NE)、西南(SW)、西北(NW)的中文次序和英文字母簡稱的次序相反。

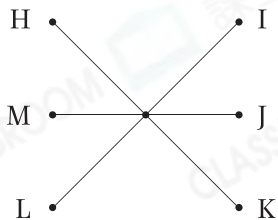
選擇題

選出正確的答案填在空格內。(14分，每題2分)

1. 指南針上有標記的指針永遠指着哪一個方向？

- A. 東
- B. 南
- C. 西
- D. 北

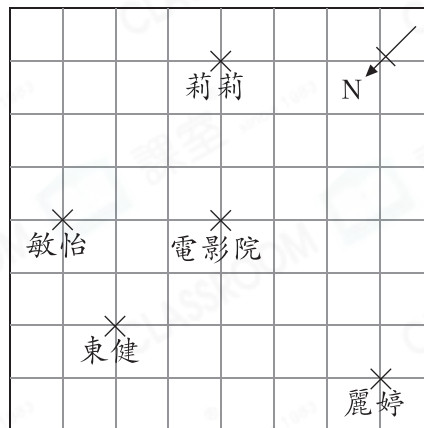
新 2.



如果K在H的東方，M在J的哪一方？

- A. 南
- B. 西南
- C. 北
- D. 東北

常考 3.



莉莉、敏怡、東健和麗婷四人相約到電影院看電影，他們分別走向電影院。結果向西南方走的最早到達電影院，那麼誰最早到達？

- A. 莉莉
- B. 敏怡
- C. 東健
- D. 麗婷



4. 國良從家向東北方走了400m到便利店，然後他向西北方走了400m到奶奶家，探望完奶奶後，他想以最短的路線返回家，他該往哪一個方向走？

- A. 南
B. 北
C. 西南
D. 東南

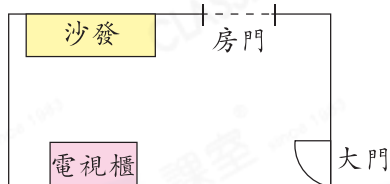
5. 世明在黃昏時面向太陽站立，然後依順時針方向轉了兩個直角，他現在背向哪一方？

- A. 東
B. 南
C. 西
D. 北

6. 中午12時正，時針指向南方。3小時後，時針將指向哪一方？

- A. 東
B. 南
C. 西
D. 北

7.



上圖是大廳的平面圖，大門在電視櫃的東北方。當爸爸坐在沙發上看電視時，他應望向哪一方？

- A. 東南
B. 西南
C. 東北
D. 西北

短答及列式計算題

除特別指明外，在回答本部問題時，須列出計算步驟。(4分)

8. 右圖中，商場在圖書館的東南方。

(a) 雅琪在游泳池，她要去酒樓時，應向哪一個方向走，路程才是最短的？(只須寫出答案) [2分]

答案：_____方

(b) 嘉慶發現學校在他的西南方，他當時在地圖中的哪一個位置？(只須寫出答案) [2分]

答案：_____

✕ 港鐵站	✕ 商場	✕ 噴水池	
✕ 圖書館	✕ 酒樓	✕ 學校	
✕ 足球場	✕ 醫院	✕ 游泳池	