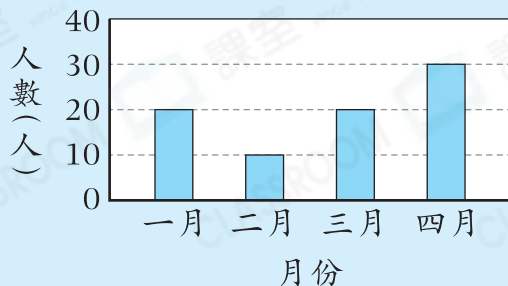


必攻
例題

右圖顯示西樂公司的遲到人數。
遲到人數最多的月份和最少的月份相差多少人？

答案：_____人

西樂公司的遲到人數



解題思路

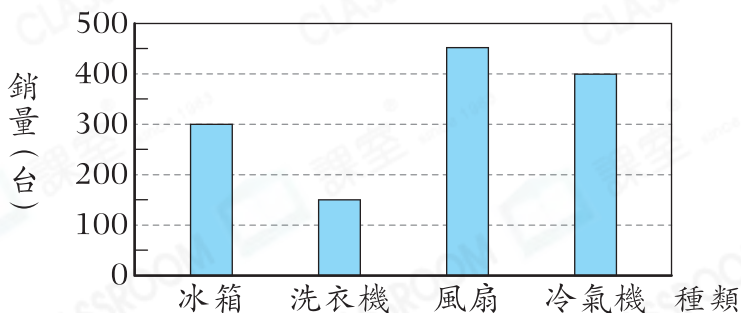
- 各月間，最多有_____人遲到，最少有_____人遲到。
- 相差：_____ - _____ = _____(人)

選擇題

選出正確的答案填在空格內。【6分，每題2分】

根據下圖，回答第1—2題。

第一季各類電器的銷量



- 哪一類電器的銷量最低？
A. 冰箱 B. 洗衣機
C. 風扇 D. 冷氣機
- 平均每月售出風扇多少台？
A. 450 B. 300
C. 150 D. 50

解題策略

高階題



題4

Q2

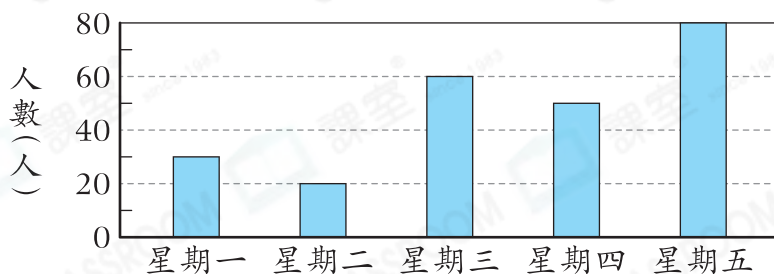
① 第一季售出 台風扇。

② 平均每月售出

÷

= (台)

3. 過去五天報考鋼琴考試的人數



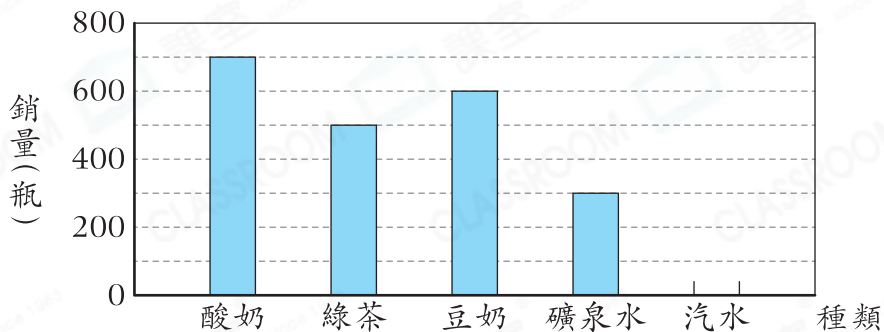
根據上圖，哪連續兩天的報考人數相差最多？

- A. 星期一和星期二 B. 星期二和星期三
C. 星期三和星期四 D. 星期四和星期五

短答及列式計算題 除特別指明外，須列出計算步驟。【8分】

4.

便利店上月各種飲品的銷量



(a) 上月共售出 2500 瓶飲品，在上圖中畫出代表汽水銷量的棒。【2分】

(b) 每箱綠茶的瓶數和每箱豆奶的相同。上月售出 25 箱綠茶，那麼上月售出豆奶多少箱？【4分】

(c) 該便利店亦有售賣雪糕。每杯雪糕的原價是 \$32，如果購買一打，將可多得 4 杯。平均每杯雪糕的售價將會是多少？(只須寫出答案)【2分】

答案：\$ _____