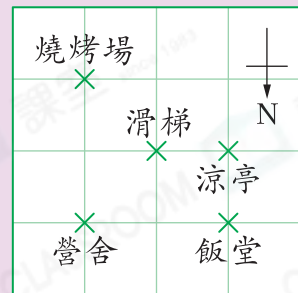


必攻例題

右面是某度假村的平面圖，涼亭在飯堂的_____方。

解題思路

- 在飯堂的位置畫出方向標示：E W N
- 涼亭在飯堂的_____方。

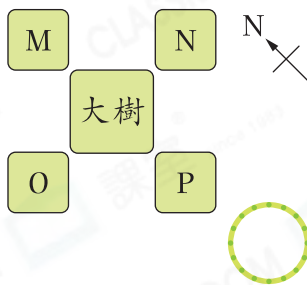


選擇題

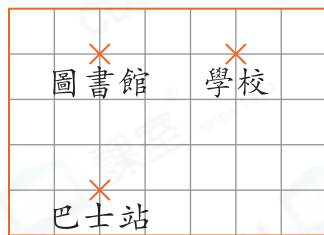
選出正確的答案填在空格內。【6分，每題2分】

1. 四人站在大樹旁，站在大樹東方的人被果實擊中，誰被果實擊中了？

- A. M B. N
C. O D. P



2.



曉霞由學校向南出發往圖書館，到達圖書館時，她在巴士站的哪一個方向？

- A. 東 B. 南
C. 西 D. 北

3. 樂怡面向南方站立，然後左轉一個直角，她現在面向哪一方？

- A. 東 B. 南
C. 西 D. 北

解題策略



Q2

- 畫出正確的方向標示。
- 將方向標示移到「巴士站」。

Q3

畫出草圖幫助解題：



左轉一個直角後，樂怡面向_____方。