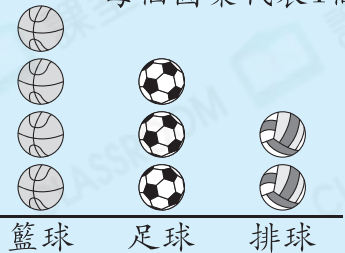


必攻例題

右圖顯示體育用品店球類的銷量。該店售出的籃球比排球多_____個。

體育用品店球類的銷量

每個圖案代表1個



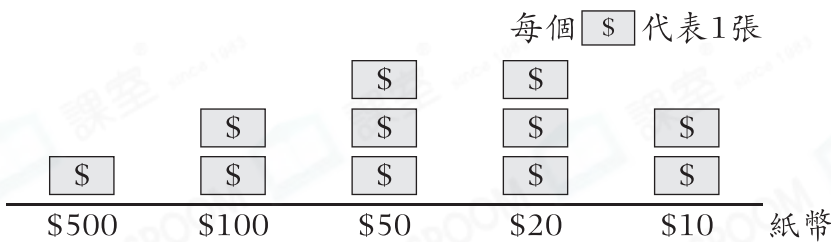
解題思路

- 籃球和排球分別售出_____個和_____個。
- 該店售出的籃球比排球多：
_____ - _____ = _____ (個)

選擇題

選出正確的答案填在空格內。【4分，每題2分】

1. 4A班學生籌得的款項



哪一種紙幣的總值最多？

- A. \$500 B. \$100
C. \$50 D. \$20

解題策略

高階題



題2

Q1

分別計算各選項的總值：

A. $500 \times 1 = \$$

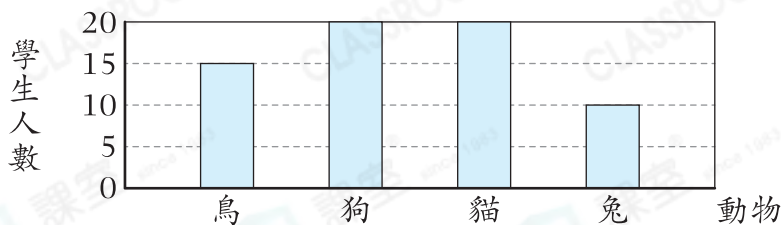
B. $100 \times 2 = \$$

C. $50 \times$ $= \$$

D. \times
 $= \$$

2.

四年級學生最喜愛的動物



四年級學生以一人一票的方式選出最喜愛的動物，結果如上。已知投票當天有8人缺席，四年級共有學生多少人？

- A. 65 B. 68
C. 70 D. 73

【2 = 2 - 4 · 2 · 4】 2

