

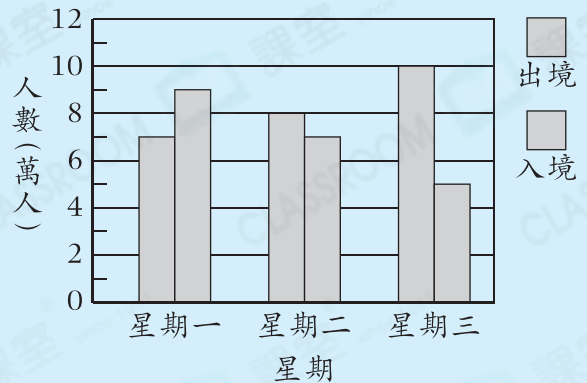
必攻  
例題

右圖是某關口過去三天的出入境人數。過去三天的總入境人數是 \_\_\_\_\_ 萬人。

## 解題思路

- 過去三天的入境人數分別是9萬人、\_\_\_\_\_萬人和\_\_\_\_\_萬人。
- 總入境人數是： $9 + \underline{\quad\quad} + \underline{\quad\quad}$   
= \_\_\_\_\_(萬人)

某關口過去三天出入境的人數

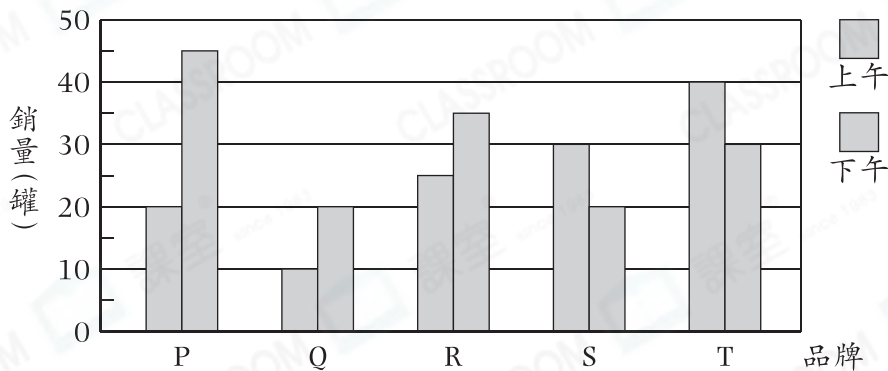


## 選擇題

選出正確的答案填在空格內。【6分，每題2分】

根據下圖，回答第1—3題。

昨天五個品牌罐頭魚的銷量



1. 品牌P上午和下午罐頭魚的銷量相差多少罐？

- A. 15                      B. 20  
C. 25                      D. 30

2. 哪個品牌罐頭魚的總銷量是品牌Q的兩倍？

- A. 品牌P                      B. 品牌R  
C. 品牌S                      D. 品牌T

## 思維導向

高階題



題4

## Q1

- 每一小格代表5個。
- 找出品牌P上午和下午對應的銷量。

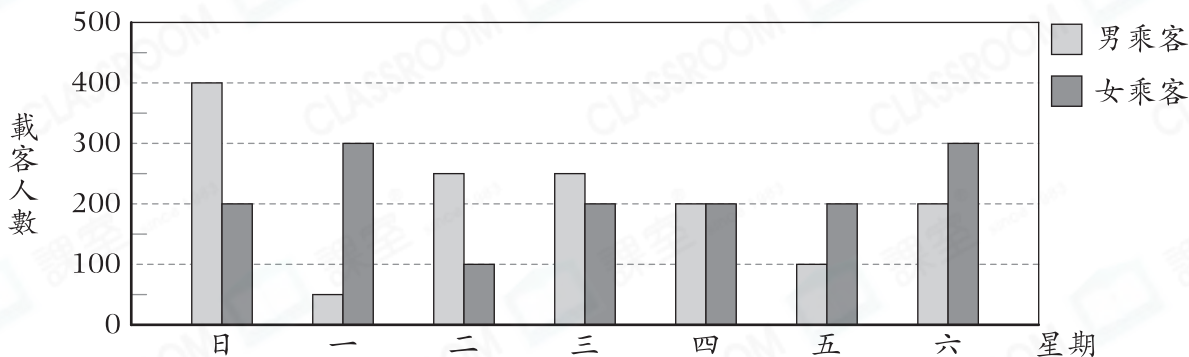
3. 下列哪一項說法是不正確的？

- A. 比較上午的銷量，品牌Q的銷量最少。
- B. 比較下午的銷量，品牌P的銷量最多。
- C. 五個品牌上午的總銷量是120罐。
- D. 五個品牌下午的總銷量是150罐。

**短答及列式計算題** 除特別指明外，須列出計算步驟。【8分】

4.

上星期某渡輪的載客人數



(a)

日子	每程收費
星期一至星期五(公眾假期除外)	\$20
星期六、星期日及公眾假期	\$30

根據統計圖及上表，該渡輪在星期六和星期日的總收入是多少？【4分】

(b) 上星期五是勞動節，星期五的收入會比星期四的多嗎？試解釋。【4分】

答案：因為\_\_\_\_\_

所以星期五的收入★會 / 不會 (★圈出答案)比星期四的多。