

必攻
例題

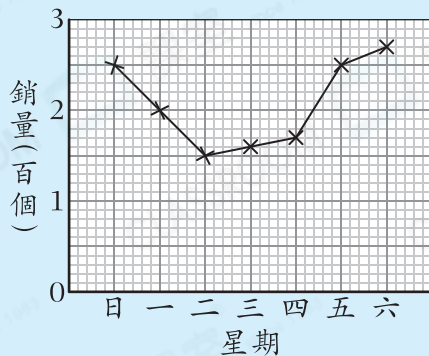
在快餐店上星期漢堡包的銷量中，哪連續兩天的銷量相差20個？

答案：星期_____和星期_____

解題思路

- 銷量相差20個代表在圖上相差_____小格。
- 根據右圖，星期_____和星期_____連續兩天的銷量相差20個。

快餐店上星期漢堡包的銷量

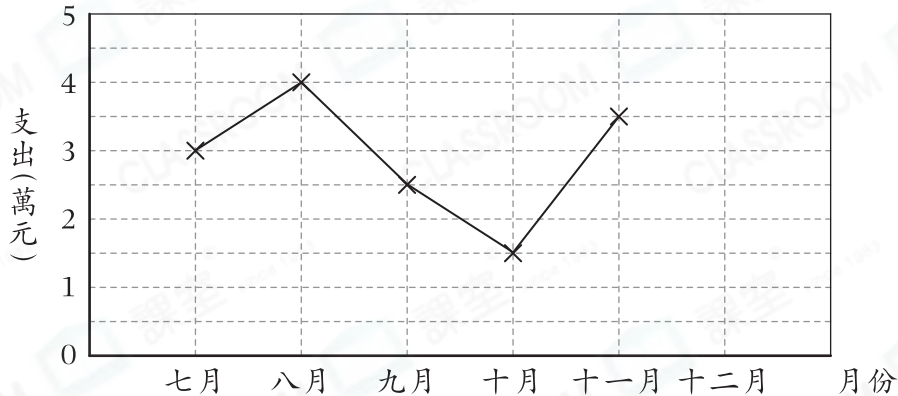


選擇題

選出正確的答案填在空格內。【8分，每題2分】

根據下圖，回答第1—2題。

美麗時裝店下半年的支出



新

1. 店主嘗試用上圖表示時裝店的支出，但她忘記標示十二月的支出。已知支出最高的兩個月平均每月的支出是\$45000，則十二月的支出是多少？

- A. \$50000 B. \$45000
C. \$40000 D. \$20000

2. 該店下半年共有多少個月的支出不高於2.5萬元？

- A. 1 B. 2
C. 3 D. 4

思維導向

高階題



題5

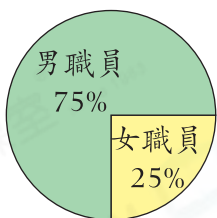
Q1

- 找出哪兩個月的支出最高。
- 平均數 \times 項數 = 總數

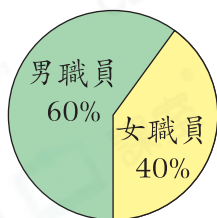
3. 以統計圖顯示各種口味的雪糕分布，下列哪一種統計圖最合適？

- A. 象形圖
- B. 棒形圖
- C. 圓形圖
- D. 折線圖

4. P店的職員人數



Q店的職員人數



下列哪一項必定是正確的？

- A. P店的男職員比Q店的多。
- B. P店的女職員比Q店的多。
- C. P店的職員人數和Q店的相同。
- D. 無法比較。

短答及列式計算題

除特別指明外，須列出計算步驟。【6分】

5. 銷售部門每月的目標是售出 6000 部電腦。

(a) 在哪兩個連續月份的電腦銷量多於 4500 部？(只須寫出答案)【2分】

答案：_____ 月和 _____ 月

(b) 若以每季計算，完成銷售目標的 80% 或以上，銷售部門可獲獎金。在四月至六月，銷售部門可以獲得獎金嗎？試解釋。【4分】

答案：因為 _____

所以銷售部門* 可以 / 不可以 (* 圈出答案)獲得獎金。

上半年電腦的銷量

