

# 階段性評估(一)

練習1至7


時限  
20分鐘

回答下列各題。【9分】

1.



(a) 共有 \_\_\_\_\_ 個雪糕，總數目是一個 \* 奇數 / 偶數。【1分】  
(\* 圈出答案)

(b)  比  \* 多 / 少 (\* 圈出答案) \_\_\_\_\_ 個。【1分】

2. 由10順數至17，共有 \_\_\_\_\_ 個奇數。【1分】

3.



排第四的花瓶有 \_\_\_\_\_ 枝花。【1分】

4. 「6, , , 3」是一組倒數的數， 和  合成的結果是多少？【1分】

答案： \_\_\_\_\_

5. 媽媽買了 ，做蛋糕用了 ，還餘  多少隻？【1分】

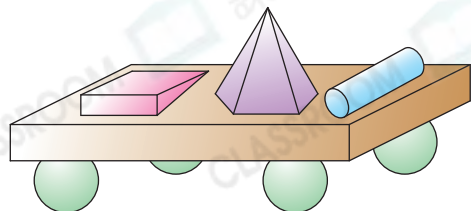
答案： \_\_\_\_\_ 隻

6. 右圖中，

(a) 有 \_\_\_\_\_ 個角柱。【1分】

(b) 有 \_\_\_\_\_ 個圓錐。【1分】

(c) 有 \_\_\_\_\_ 個立體圖形可以滾動。【1分】



選出答案，把代表答案的○塗黑和塗滿。【5分，每題1分】

7. 姊姊取走了 ，比弟弟取走的  多，弟弟可能取走了  多少個？

A. 8個

B. 9個

C. 10個

D. 11個




8. 下列哪一組數**不是**順數？

A. 5, 6, 7, 8

B. 11, 12, 13, 14

C. 15, 16, 14, 17

D. 9, 10, 11, 12

9. 把13個  分裝成兩袋，其中一袋有6個 ，另一袋有  多少個？

A. 6個

B. 7個

C. 8個

D. 9個

10.



排在第幾的球員**不是**身着偶數號碼的球衣？

A. 第二

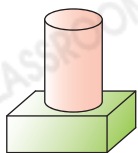
B. 第三

C. 第七

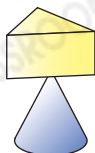
D. 第八

11. 下列哪一項是由角柱和角錐組成？

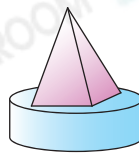
A.



B.



C.



D.

