

速算技巧

湊十法：看大數，分小數，湊成十，加剩數。

例 $9 + 3 = \underline{\quad 12 \quad}$

$1 + 2 \leftarrow 10 + 2 = 12$

$\leftarrow 9 \text{ 和 } 1 \text{ 湊成 } 10$



試一試


$5 + 9 = \underline{\quad \quad}$



易錯舉例



易錯點：選錯數據計算。

例 右圖共有 顆 。 $3 + 3 = 6$

 錯解 14


 正解 6



 小貼士：每盤只有3顆 。

即學即練

1.



上圖共有 枝筆。

 + =

2.



下列哪一道算式可計算出上面共有碗多少個？

A. $1 + 2$

B. $1 + 3$

C. $1 + 5$

D. $2 + 3$


基礎訓練


3. $2 + 6 =$ _____


4. 如果 $5 + \text{✻} = 9 + 5$ ，那麼 $\text{✻} = ?$


- A. 4 B. 9
 C. 12 D. 14


5. 把結果相同的算式連起來。


 $7 + 8$

 $5 + 9$

 $7 + 4$

 $6 + 6$


 $4 + 7$


 $7 + 5$


 $9 + 6$


 $8 + 6$

6. 下列哪一道算式的結果是最大的奇數？

- A. $1 + 2$ B. $3 + 4$
 C. $2 + 7$ D. $5 + 5$



易錯指南

留意字眼「最大的奇數」。

應用天地

7. 家裏原有 ，媽媽買回 ，現在有  多少枝？

現在有 ：


_____ + _____
= _____ (枝)



易錯指南

不要選取錯誤的數據計算。

8.



一套故事書

雪晴和冰冰各買一套故事書，她們共有故事書多少本？

她們共有故事書：

$$\begin{aligned} & \underline{\quad\quad\quad} + \underline{\quad\quad\quad} \\ = & \underline{\quad\quad\quad} \text{ (本)} \end{aligned}$$



解題思路

雪晴

--	--	--	--	--

 | 共?本
冰冰

--	--	--	--	--

9.



上圖中，兩個心形盒子共裝了巧克力多少顆？

共裝了巧克力：

$$\begin{aligned} & \underline{\quad\quad\quad} + \underline{\quad\quad\quad} \\ = & \underline{\quad\quad\quad} \text{ (顆)} \end{aligned}$$



10.



爺爺點了以上其中兩籠不同的點心。

(a) 爺爺最少點了 _____ 件點心。

(b) 爺爺最多點了 _____ 件點心。