

速算技巧

破十法：看大數，分出10，減小數，加剩數。

例 $12 - 5 = \underline{\quad 7 \quad}$

$2 + 10$ ← 先算： $10 - 5 = 5$

5 ← 再算： $2 + 5 = 7$

試一試

$15 - 9 = \underline{\quad \quad}$



易錯舉例

易錯點：基本數字運算不熟悉。

例 $7 - 3 = \underline{\quad \quad}$

錯解 5

正解 4

小貼士：先畫7個○，再刪去3個○，○○○○~~○~~~~○~~~~○~~，數得答案是4。

即學即練

1. $16 - 8 = \underline{\quad \quad}$

2. $10 - 3 = \underline{\quad \quad}$

3. 下列哪一道算式表示「9減4等於5」？

A. $9 - 4 = 5$

B. $9 - 5 = 4$

C. $9 - 3 = 6$

D. $4 + 5 = 9$

4. 依指示，把算式塗上顏色。

(a) 結果最大

$8 - 1$

$8 - 2$

$7 - 2$

(b) 結果最小

$16 - 9$

$12 - 6$

$15 - 7$

基礎訓練



 比  * 多 / 少 (* 圈出答案) _____ 塊。

6. 家中有以下的水果。



(a) 哪兩種水果的數量相差最少？



答案：*  /  /  (* 圈出答案)

(b) 媽媽榨一杯  用去 2 個 ，還餘下 _____ 個 。

應用天地



上圖中， 比  少多少枚？

 比  少：
 _____ - _____
 = _____ (枚)



CLASSROOM Tips

兩數相減，須用較大的數減較小的數。


8. 外婆買了一盒雞蛋，不小心打破3隻，餘下雞蛋多少隻？

餘下雞蛋：

$$\begin{array}{r} \underline{\hspace{2cm}} - \underline{\hspace{2cm}} \\ = \underline{\hspace{2cm}} \end{array} \quad (\text{隻})$$



9.



11名小朋友列隊，當排在第三至第六的小朋友離開後，餘下小朋友多少名？

餘下小朋友：

$$\begin{array}{r} \underline{\hspace{2cm}} - \underline{\hspace{2cm}} \\ = \underline{\hspace{2cm}} \end{array} \quad (\text{名})$$





解題思路

- ① 第三至第六共_____名。
- ② 餘下的 = 全部 - 離開的

1



10.



桌上有以上的糖。

- (a) 數量是偶數的兩種糖相差_____顆。
- (b) 數量最少的兩種糖相差_____顆。
- (c) 數量最少的兩種糖共有_____顆。