


易錯舉例

易錯點：找錯題目要求的物件。

例 右面的碟子內，共有
_____ 件 。



錯解 1

正解 0



小貼士：「0」表示沒有。

即學即練

1. (a)



_____ 枝花

(b)



_____ 枝花

(c)



_____ 枝花

基礎訓練

2. $8 - 8 =$ _____

3. $7 + 0 =$ _____

4. 右圖中，共有  多少個？

A. 4個

B. 3個

C. 2個

D. 0個



5.



上圖中，共有 _____ 個  和 。

6. 下列哪一道算式的結果是0？

- A. $6 + 0$ ○ B. $11 - 11$ ○ C. $7 - 0$ ○ D. $0 + 15$

7.



海信準備了左面的禮物，送出3份後，還餘下_____份。

應用天地

8. 心雨買了5個 ，還沒有用，現餘下  多少個？


現餘下  :

$$\begin{array}{r} \underline{\hspace{2cm}} - \underline{\hspace{2cm}} \\ = \underline{\hspace{2cm}} \text{ (個)} \end{array}$$



CLASSROOM Tips

「還沒有用」，即用去0個。

9. 志強把一盒  分給自己和三位朋友，每人分得一件，餘下點心多少件？



餘下點心：

$$\begin{array}{r} \underline{\hspace{2cm}} - \underline{\hspace{2cm}} \\ = \underline{\hspace{2cm}} \text{ (件)} \end{array}$$



解題思路



10. 妹妹把2把  放入筆筒後，筆筒內共有  多少把？

筆筒內共有  :

$$\begin{array}{r} \underline{\hspace{2cm}} + \underline{\hspace{2cm}} \\ = \underline{\hspace{2cm}} \text{ (把)} \end{array}$$

