

易錯舉例

易錯點：沒有對齊。



繩子 * A / B (* 圈出答案) 較長。

錯解 A / B

正解 **A** / B



小貼士：比較物件的長短時，物件的其中一端要對齊。

即學即練

1. 把右面的三盆盆栽由矮至高排列出來，寫出代表答案的英文字母。

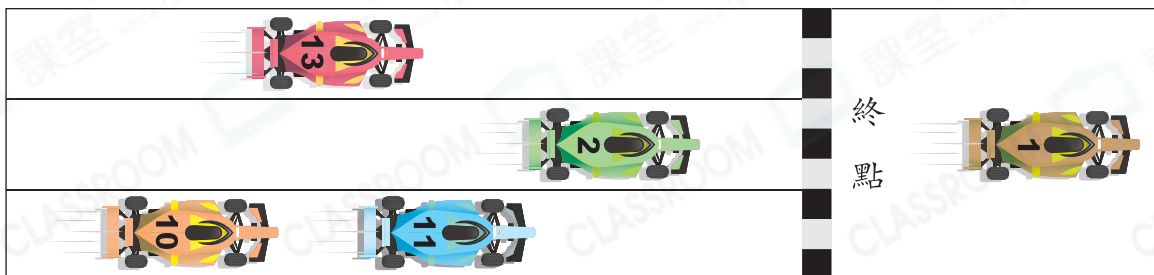
答案：_____，_____，_____

(最矮) (最高)



基礎訓練

2.



(a) 上圖中，2號車和_____號車之間的距離最近。

(b) 上圖中，_____號車距離終點最遠。

3. 觀察右圖，哪本書最厚？

答案：* 故事書 / 字典 / 漫畫書 (* 圈出答案)




應用天地

4. 根據物件的實際長度，圈出最短的物件。



5.

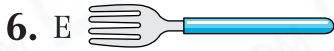


上圖中，

(a) 有_____人比家安高。

(b) 哪兩人相距最遠？(*圈出答案)

答案：* 樂晴 / 偉青 / 家安 / 海敏



根據上圖，下列哪一項是**不正確**的？

- A. 叉子E最短。
- B. 叉子E比叉子G長。
- C. 叉子F最長。
- D. 叉子F比叉子G長。

7.



在P樹和Q樹之間畫一棵樹。這棵樹距離Q樹最近，且比Q樹高，但比R樹矮。