





## 易錯舉例

**易錯點：選錯量度工具。**

**例** 下列哪一個物件最適合用來量度一部電視機的長度？



- A.  ○ B.  ○ C.  ○ D. 

**錯解** ● D


**正解** ● B

**小貼士：**留意自訂單位的數量不宜太多或太少。

## 即學即練

1. 最適合用 \*  /  (\*圈出答案) 來量度一本書的闊度。

## 基礎訓練

2. 梳子約長 \_\_\_\_\_ 個 。



3.   
-     
-   

距離  最近的是 \*  /  /  (\*圈出答案)。

應用天地

4.



單人沙發和凳子之間的距離約是\_\_\_\_\_個。

5.



(a) 原子筆約長\_\_\_\_\_枚。

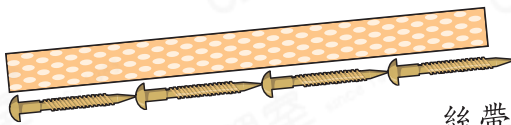
(b) 毛筆約長\_\_\_\_\_枚。

6. 根據方格紙上的地圖，距離售票處最近的是\* 表演台 / 美食廣場 / 禮品店。  
(\* 圈出答案)

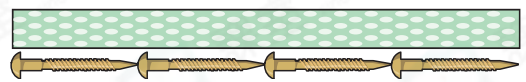


7.


絲帶 P



絲帶 Q



絲帶 R



比較以上三條絲帶的長度，絲帶\_\_\_\_\_最長。

8.



上圖中的聖誕卡\* 可以 / 不可以 (\* 圈出答案) 放入信封裏。