

階段性評估(二)

練習8至13

時限
20分鐘

計算下列各題。【6分，每題1分】

1. $3 + 7 =$ _____

2. $7 + 8 =$ _____

3. $12 + 0 =$ _____

4. $9 - 6 =$ _____

5. $16 - 9 =$ _____

6. $8 - 0 =$ _____

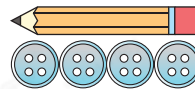
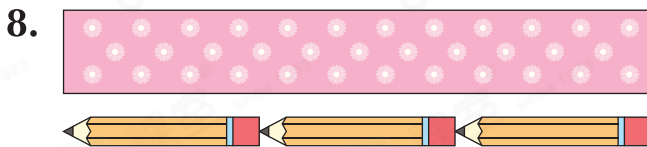
回答下列各題。【6分】

7. 陳太太付了  的價錢，她共可

得到 _____ 瓶 。【1分】



買二送一



上圖紙條約長 _____ 個 。【1分】

9. 如果玲玲在芳芳的前面，婷婷在芳芳的後面，那麼婷婷的前面有 _____ 人。【1分】

10.





(a) 姊姊在 _____ 面。【1分】

(b) 弟弟在 _____ 面。【1分】

(c) 籃球在弟弟的* 上 / 下 / 前 / 後 (*圈出答案)面。【1分】

選出答案，把代表答案的○塗黑和塗滿。【3分，每題1分】

11. 樂文有 ，全部送出後，還餘  多少粒？

A. 0粒

B. 1粒

C. 5粒

D. 10粒

12. 


弟弟從數量較多的一款迴形針中，取走5枚後，這款迴形針還餘下多少枚？

A. 4枚

B. 5枚

C. 8枚

D. 9枚

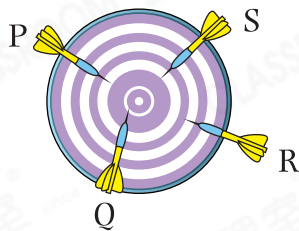
13. 哪枝飛鏢距離靶心最近？

A. P

B. Q

C. R

D. S



列式計算下列各題。【4分，每題2分】

14. 姊姊有 ，妹妹有 ，她們有的  相差多少顆？

她們有的  相差：

= _____ (顆)



15. 承俊購買了2盒白色的乒乓球，他共買了乒乓球多少個？

他共買了乒乓球：

= _____ (個)

