

## 易錯舉例

易錯點：不會讀數。

例 用中國數字寫出「61」。

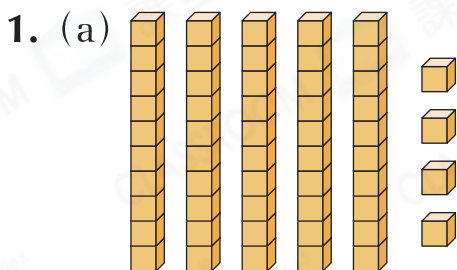
錯解 六一

正解 六十一



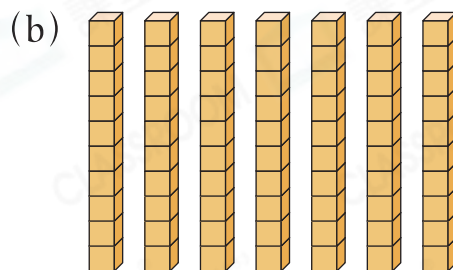
小貼士：20以及大於20的兩位數都讀作「幾十」或「幾十幾」。

## 即學即練



共有 \_\_\_\_\_ 粒數粒。

這個數讀作：\_\_\_\_\_



共有 \_\_\_\_\_ 粒數粒。

這個數讀作：\_\_\_\_\_

## 基礎訓練

2. 下列哪一個數比60小，又比50大？

A. 46

B. 56

C. 65

D. 70

3. 依規律填數字。

(a) 46, \_\_\_\_\_, 44, 43, \_\_\_\_\_, \_\_\_\_\_, 40

(b) 23, 24, \_\_\_\_\_, 26, \_\_\_\_\_, 28, 29, \_\_\_\_\_

4. 在「73」這個數裏，

(a) 數字「7」表示的數值是\_\_\_\_\_。

(b) 數字「3」在\_\_\_\_\_位。

**應用天地**

5. 三個偶數由大至小排列如下：

82, , 72

(最大) (最小)

在空格內填上適當的數。

**解題思路**

- ① 列舉比72大，又比82小的所有偶數。
- ② 多個答案時，只須寫其中一個即可。

6. 由96倒數至87，共有\_\_\_\_\_個偶數。

7.



從上圖選取數字卡，組成指定的兩位數。

(a) 最大的兩位數：\_\_\_\_\_

(b) 最小的兩位奇數：\_\_\_\_\_



**易錯指南**

留意題目中的重點字眼。

8. 下表顯示各興趣班的招生名額。

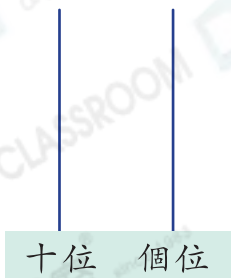
興趣班	舞蹈班	電腦班	唱詩班
名額(名)	12	30	28

(a)\* 舞蹈班 / 電腦班 / 唱詩班 (\*圈出答案)的招生名額最多，有\_\_\_\_\_名。

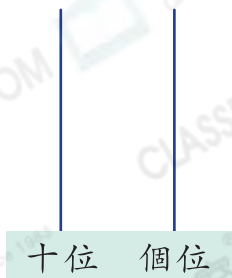
(b) 舞蹈班已招生8名學生，現在還有6名學生想報名舞蹈班，名額\* 足夠 / 不足夠 (\*圈出答案)。

9. 用3粒算珠表示三個不同的兩位數，把答案畫在下面的算柱上。

(a)



(b)



(c)

