

知識要點

橫式： $28 - 5 = 23$

被減數 減數 差

$$\begin{array}{r} 28 \\ - 5 \\ \hline 23 \end{array}$$

被減數 減數 差

試一試

$$\begin{array}{r} 24 \\ - 4 \\ \hline \square \end{array}$$

易錯舉例

易錯點：忘記書寫個位的「0」。

例



錯解

$$\begin{array}{r} 43 \\ - 13 \\ \hline 3 \end{array}$$



正解

$$\begin{array}{r} 43 \\ - 13 \\ \hline 30 \end{array}$$



小貼士：個位的「0」不能省略。

即學即練

1.
$$\begin{array}{r} 32 \\ - 2 \\ \hline \square \end{array}$$

2.
$$\begin{array}{r} 47 \\ - 20 \\ \hline \square \end{array}$$

3.
$$\begin{array}{r} 79 \\ - 36 \\ \hline \square \end{array}$$

4. 計算下列各題，並驗算答案。

(a) $45 - 5 = \underline{\hspace{2cm}}$

(b) $86 - 34 = \underline{\hspace{2cm}}$

驗算

$$\begin{array}{r} \square \\ + 5 \\ \hline \square \end{array}$$

驗算

$$\begin{array}{r} \square \\ + 34 \\ \hline \square \end{array}$$

基礎訓練

5. 如果 $27 - * = 16$ ，那麼 $*$ 的值是多少？

答案：_____

6. 媽媽買了 6 個  和 18 個 ， 比  $*$ 多 / 少 (* 圈出答案) _____ 個。

7.



德力



我今次英文默書的成績是 79 分，
比上次進步了 7 分。

德力上次英文默書的成績是 _____ 分。

8. 下表顯示昨天三種雪糕的銷量情況。

| | | | |
|-------|---|--|---|
| 種類 |  |  |  |
| 銷量(條) | 66 | 50 | 78 |

(a) 銷量最多與最少的雪糕的銷量相差 _____ 條。

(b)  與 *  /  (* 圈出答案) 的銷量相差較少。

應用天地

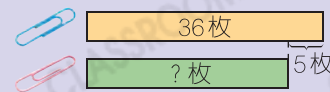
9. 君悅有 36 枚 ， 比  少 5 枚，即她有  多少枚？

她有 ：

= _____ (枚)



解題思路



10. 美嫻有 27 本小說和 15 本漫畫，這兩種圖書相差多少本？

這兩種圖書相差：

= _____ (本)



CLASSROOM Tips

計算兩數的差時，應用較大的數減去較小的數。

11. 一份數學測驗共有 35 題，婉玲答錯 10 題，即她答對多少題？

她答對：

= _____ (題)



解題思路

| | |
|-----------|---------|
| 答對？題 | _____ 題 |
| 共 _____ 題 | |

98 · 01

12. 一輛旅遊巴士可載 53 人。旅遊巴士上現有 47 位遊客和 1 位導遊，遊客比導遊多多少位？

遊客比導遊多：

= _____ (位)



易錯指南

留意選取有用的數據計算。

開放題

13. 花店有 91 枝玫瑰和 50 枝百合。每 10 枝玫瑰束成一束，賣出 5 束後，店員認為餘下的玫瑰和百合一樣多。你同意嗎？為什麼？

答案：因為每 10 枝一數，5 個 10 是 _____，餘下玫瑰：
 _____ = _____ (枝)，_____ 比
 _____ 小。

所以我 * 同意 / 不同意 (* 圈出答案) 店員認為餘下的玫瑰和百合一樣多。