

知識要點

- ✓ 鐘面上，較長的指針是分針，較短的指針是時針。
- ✓ 分針指着12，時針指着幾，時間就是幾時。
- ✓ 分針指着6，時針剛過了幾，時間就是幾時半。


例



以上時鐘顯示的時間是 3時半。

試一試

右圖顯示的時間是_____。



易錯舉例

易錯點：讀題不仔細，看見時鐘，就以為填寫顯示時間。

例

現在的時間是



，一小時後是_____。



錯解

9時



正解

10時



小貼士：仔細讀題，先弄清楚題目所求，再作答。

即學即練

1. 籃球賽於



開始，比原定時間提前了1小時，籃球賽原定於

_____開始。

2.



顯示的時間比實際時間慢了2小時。實際時間是_____。

每1 課室

基礎訓練

3. 寫出以下時鐘顯示的時間。

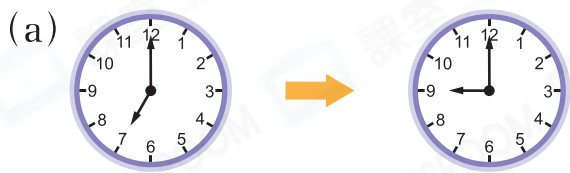


_____ 時

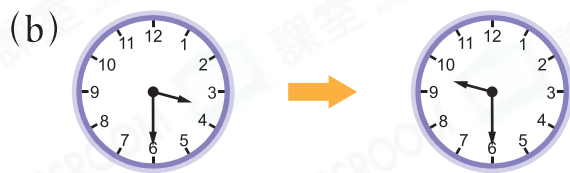


_____ 時半

4. 寫出時間間隔。



過了 _____ 小時。



過了 _____ 小時。



5. 寫出結束時間。



應用天地

6. 電影《飛豬俠》在  開始播放，於  結束播放，這部電影

共播放了 _____ 小時。

7. 國新在  開始吃早餐，智敏在  開始吃早餐。國新比

智敏 * 早 / 遲 (* 圈出答案) 吃早餐。

8.



以上顯示健偉參加游泳班的時間。

(a) 游泳班在_____結束。

(b) 健偉上游泳班共用了_____小時。

9. 素芳和朋友由



至

在公園遊玩。遊玩期間，素芳

接到媽媽的來電，下列哪一項可能是她接到電話的時間？

A.



B.



C.



D.



10. 右表顯示兩位學生登山的時間，

* 榮光 / 立文 所用的時間較長。

(* 圈出答案)

學生	時間
<u>榮光</u>	9時至12時
<u>立文</u>	1時至5時

11.



第一班



第二班



第三班



第四班

每隔相同的時間開出一班巴士。上圖顯示巴士的開出時間。

(a) 第四班巴士於_____開出。

(b) 現在是9時，乘客最快可以乘坐第_____班巴士。