

易錯舉例


易錯點：數漏了物件。

例 右圖中，共有 _____ 顆 。

 錯解 6


 正解 7



 小貼士：數數時可做標記。

即學即練

1.



(a) 上圖中，有 _____ 片 。

(b) 上圖中，共有 _____ 片樹葉。


基礎訓練

2. 依指示塗顏色。

(a) 2個☆



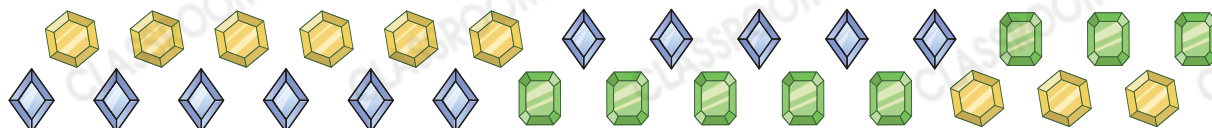
(b) 7個○



3.  有 _____ 顆 。

4. 「十九」寫作 _____。

5.



上圖中，有11顆*  /  /  (*圈出答案)。

應用天地

6. 文欣在筆筒內放了_____枝紅筆和_____枝藍筆。



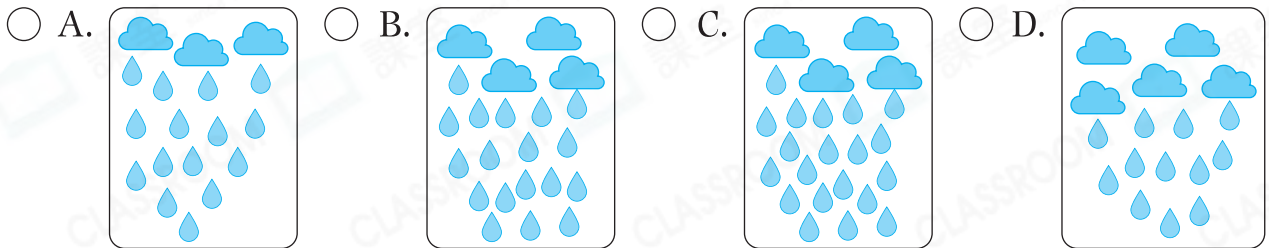
7. 花店有以下的絲帶。



(a) 共有_____種不同顏色的絲帶。

(b) 共有_____卷絲帶。

8. 妹妹畫的畫上有4片☁️和20滴💧，以下哪幅畫是妹妹畫的？



9. 雪兒正在裝飾聖誕樹。

(a) 裝飾了_____個🎄。

(b) 裝飾了_____個🍬。

(c) 雪兒要用一打🔔裝飾聖誕樹。

圈出需要的🔔。

