
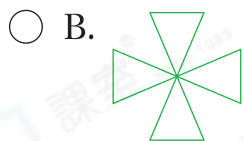



基礎訓練

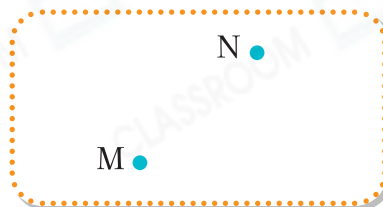
3. 下列哪一個圖案只由直線組成？



4. 利用以下哪些物件可以畫出曲線？(圈出所有答案)



5. 經過M和N兩點，畫一條直線。



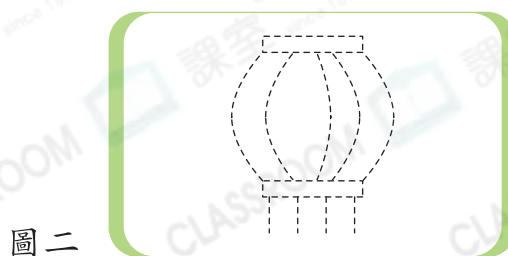
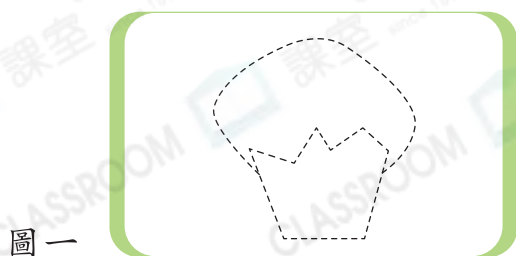
應用天地

概念題

6. 下列哪一項是**不正確**的？

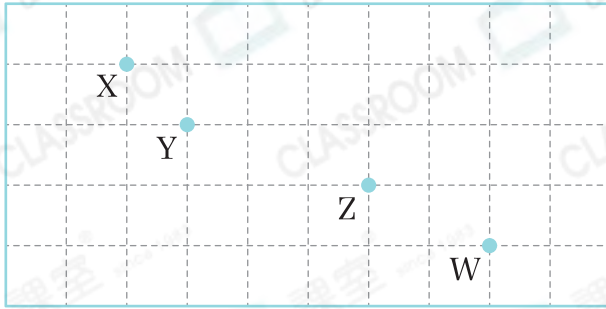
- A. 經過兩點可以畫很多曲線。
- B. 經過兩點可以畫很多直線。
- C. 經過一點可以畫很多曲線。
- D. 經過一點可以畫很多直線。

7. (a) 在圖一中，沿虛線畫出所有直線。



(b) 在圖二中，沿虛線畫出所有曲線。

8.



CLASSROOM Tips

用直尺畫出經過其中三點的直線。

上圖中，_____點和其他點不在同一直線上。

9. 以下是學生設計的圖案。



W



X



Y



Z

(a) 只由一種線組成的圖案有多少個？


答案：_____個

(b) 文輝、志恒和美雪設計的圖案有以下特點。哪些圖案是他們設計的？(只須寫出代表圖案的英文字母)

學生	直線和曲線相差數目	圖案
<u>文輝</u>	5條	
<u>志恒</u>	2條	
<u>美雪</u>	7條	

10. 分別用直線和曲線畫一條裙子。

(a) 直線



(b) 曲線

