

易錯舉例

易錯點：未能正確讀出長度。

例 右面鎖匙的長度是 \_\_\_\_\_ cm。

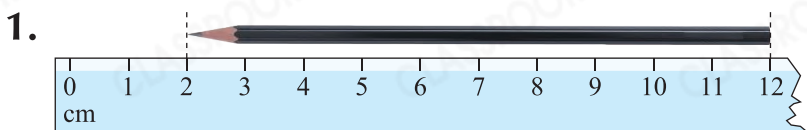
錯解 5

正解 4



小貼士：用直尺量度時，須留意物件兩端對應的刻度。

即學即練



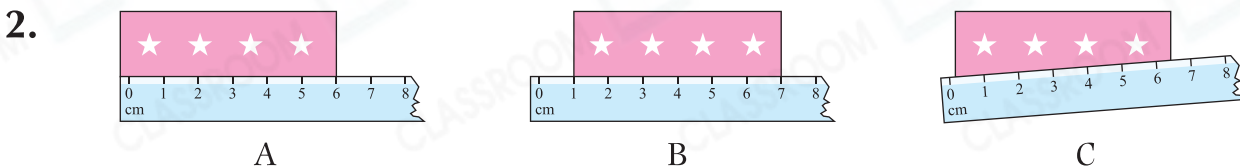
一枝鉛筆長 \_\_\_\_\_ cm。



易錯指南

物件的左端沒有與直尺的「0」刻度對齊。



概念題



上圖中，圖 \* A / B / C (\* 圈出答案) 的測量方法是正確的。

基礎訓練


3. 用厘米尺量度下列各物件的長度。

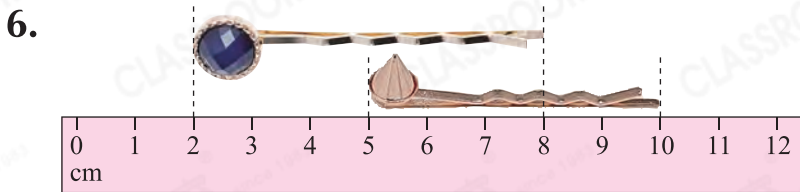


4. 一塊擦膠約長多少？

- A. 1cm      ○ B. 5cm      ○ C. 12cm      ○ D. 20cm

**應用天地**

5. 距離玩具飛機7厘米。在直線適當的位置畫上「」。



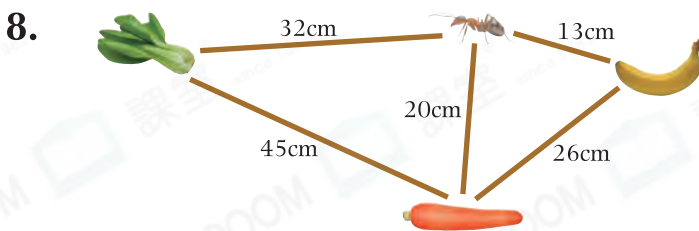
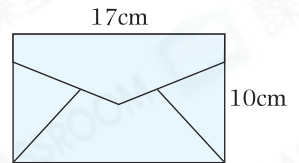
**CLASSROOM Tips**

量度兩個髮夾時，起始刻度不同。



上圖中，兩個髮夾的長度相差\_\_\_\_\_ cm。



以上三張生日卡，\* A / B / C (\*圈出所有答案) **不可以**放進右面的信封內。



**解題思路**

- 考慮不重複的路線較短。
- 應最先吃\*  /  。

(\*圈出答案)

(a) 距離\*  /  /  (\*圈出答案)最遠。

(b) 想吃到全部食物，最少須爬\_\_\_\_\_ cm。

9. 姊姊有一款長度最接近4cm的夾子，圈出這款夾子。

