


易錯舉例

易錯點：誤以量度工具的數量為答案。

例 兒童雨傘長 _____ cm。



錯解 5

正解 50

小貼士：注意量度工具的長度。

即學即練

1. (a)

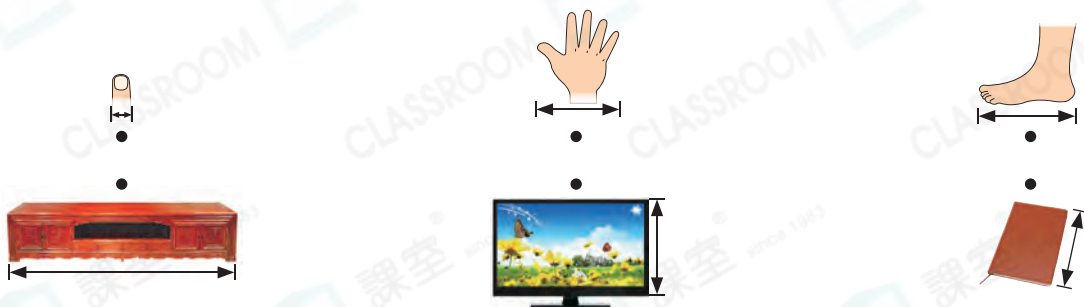
球拍約長 _____ cm。

(b)

杯子約高 _____ cm。

基礎訓練

2. 把最適合量度各物件實際長度的永備尺和物件連起來。

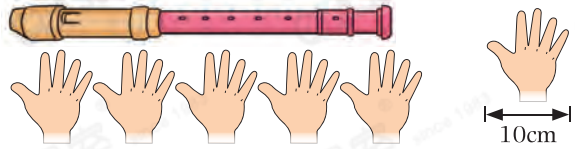



3. 圈出最適合用來量度右圖水桶一圈的長度的物件。

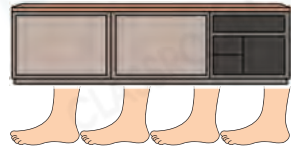


應用天地

4.  的長度約是
* 40cm / 45cm / 50cm 。
(* 圈出答案)




5. 




 比  * 長 / 短 (* 圈出答案) _____ 個  。

6. 








(a) 平板電腦的長度是 20cm，每個  約闊 _____ cm。


(b) 每個  闊 1cm，電腦鍵盤約長 _____ cm。

7.     



 與  相距 _____ cm。

8. 




兩條毛巾的長度相差 40cm，小毛巾長 _____ cm。