

跨課題應用(二)

練習 1 至 28

時限
20分鐘

1. 以下兩隻腕錶分別顯示花店店員上班和下班的時間。



上班時間



下班時間

- (a) 店員在 _____ 開始上班。
- (b) 店員每小時包裝 10 束百合，共包裝了 _____ 束百合。
- (c) 花店賣出 10 束百合後，還餘下百合多少束？(列式計算)

還餘下百合：

$$\underline{\hspace{2cm}}$$
$$= \underline{\hspace{2cm}} \text{ (束)}$$



2.

代用券
\$30

萬福超級市場

有效期：7月21日至8月10日

- (a) 媽媽在代用券有效期內的第三天去萬福超級市場購物，那一天是 _____ 月 _____ 日。
- (b) 媽媽購買一瓶洗衣液，使用了一張代用券，且另付了 35 元現金，這瓶洗衣液售多少元？(列式計算)

這瓶洗衣液售：

$$\underline{\hspace{2cm}}$$
$$= \underline{\hspace{2cm}} \text{ (元)}$$



CLASSROOM Tips

洗衣液售價
= 代用券金額 + 付款金額

日期：_____

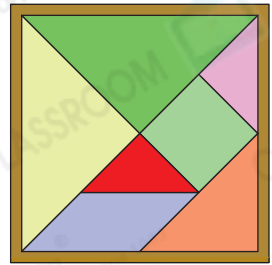
成績：_____



3. 玩具店特價售賣右圖的七巧板。

(a) 一套七巧板有_____個_____形和
_____個_____形。

(b) 子芸購買一套七巧板，圈出她須付的款項。



特價 \$9.60

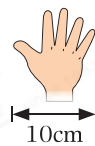
(c) 玩具店上午售出14套七巧板，比下午少售出9套。下午售出七巧板多少套？(列式計算)

下午售出七巧板：

= _____ (套)





4. 哥哥正在量度雨傘的長度。



(a)  長 62cm， 約長 _____ cm。

(b)  約長 _____ cm。

(c)  比  約長多少？(列式計算)

 比  約長：

= _____ (cm)

