

階段性評估(四)

練習 22 至 28

時限
20分鐘

回答下列各題。【9分】


1.



(a) 清欣有以上款項，她共有_____元_____角。【1分】

(b) 她把  換成  後，共有_____個硬幣。【1分】

2.




上面的書籤長_____。(答案須寫上單位)【1分】

3. 妹妹想買兩個 ，她共須付

_____元_____角。【1分】



4. 右圖中， 約長

_____個 。【1分】



5. 右圖是今天的日曆。子珊在本星期六參加籌款活動，那天是什麼日子？【1分】

答案：_____月_____日

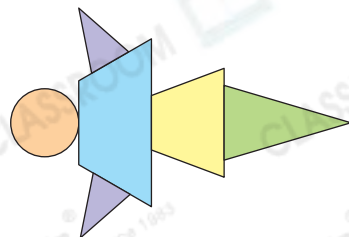


6. 經過任意兩點只可以畫出_____條直線。【1分】

7. (a) 右圖是由* 直線 / 曲線 組成。【1分】

(* 圈出所有答案)

(b) 三角形比_____形多 2 個。【1分】



選出答案，把代表答案的○塗黑和塗滿。【6分，每題1分】

8. 展鵬有      ，購買一碟腸粉後，餘下款項多少？

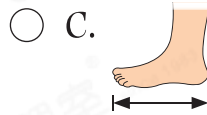
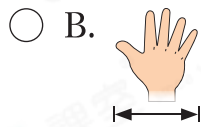
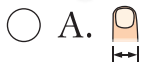
- A. 0元 ○ B. 1元
○ C. 1元6角 ○ D. 9元6角



特價 \$8

~~\$9.60~~

9. 下列哪一項最適合用來量度  的長度？



10. 右面的花瓶高 30cm，每個  約闊多少？

- A. 5cm ○ B. 10cm
○ C. 15cm ○ D. 20cm



11. 表哥於書展第二天開始，一連三天參加書展，他去書展的最後一天是

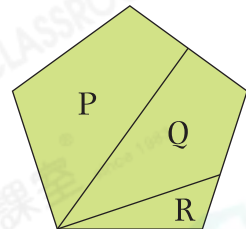
- A. 7月20日。 ○ B. 7月22日。
○ C. 7月23日。 ○ D. 7月25日。

香港書展

7月19日至25日
香港會議展覽中心

12. 觀察右圖，下列哪一項是錯誤的？

- A. P和Q是四邊形。
○ B. 共有3個四邊形。
○ C. R是三角形。
○ D. 三角形比四邊形少1個。



13. 下列哪一個圖只由直線組成？

