

姓名：_____

班別：_____ ()

日期：_____

成績：_____ /54

限時：40分鐘

範圍：練習1-13

綜合測試(一)

計算下列各題。【6分，每題1分】

1. $0 + 2 =$ _____

2. $3 + 5 =$ _____

3. $9 + 6 =$ _____

4. $7 - 4 =$ _____

5. $8 - 8 =$ _____

6. $12 - 5 =$ _____




回答下列各題。【26分】

7.



以上是一組倒數，*所表示的數是_____。【1分】

8. 下表顯示體育室內各種球類的數量。

球類			
數量(個)	10	15	9

(a) 把三種球的數量由少至多排列出來。【1分】

答案：_____ 個， _____ 個， _____ 個
(最少) (最多)


(b) *  /  /  的數目是一個奇數。【1分】

(* 圈出所有答案)

9. 寫出兩個數，它們合成為14。【1分】

答案：_____ 和 _____

10.

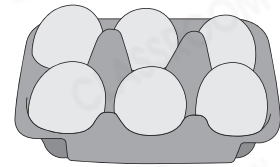


(a) 上圖有 _____ 塊 。【1分】

(b)  比  * 多 / 少 (* 圈出答案) _____ 塊。【1分】

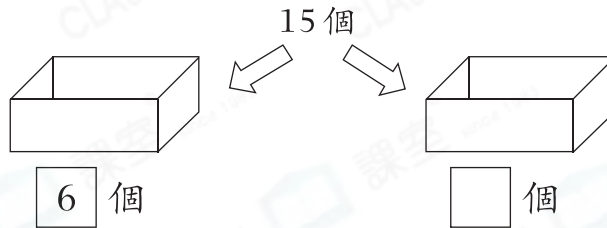
11. 張太太買了兩盒右圖的雞蛋。

(a) 她共買了 _____ 隻雞蛋。【1分】

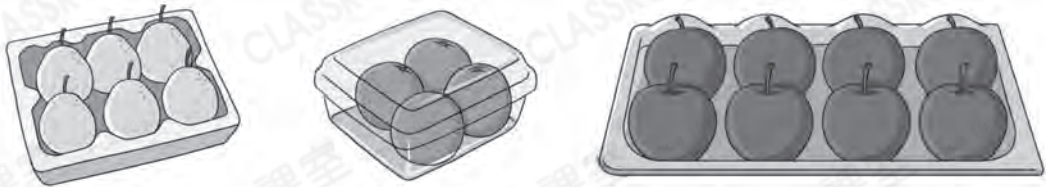


(b) 她不小心打破了3隻，還餘下
_____ 隻雞蛋。【1分】

12. 把15個球放入兩個盒子，在空格裏填寫盒子中球的數量。【1分】



13.



媽媽買了兩盒不同的水果，最少買了 _____ 個水果。【1分】


14. 把從右數起第五朵花塗上顏色。【1分】



15. 美婷在排隊付款，她前面有2人，後面有6人，她排第幾？【1分】

答案：第_____

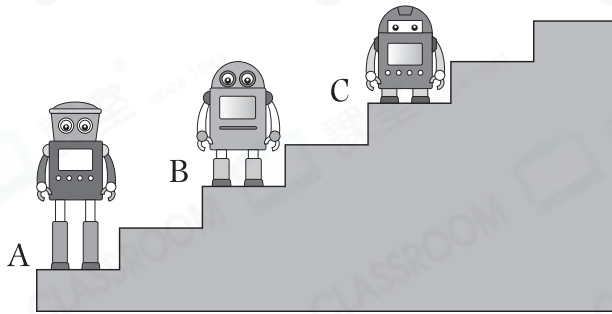
16.



(a)  約長_____個  。【1分】

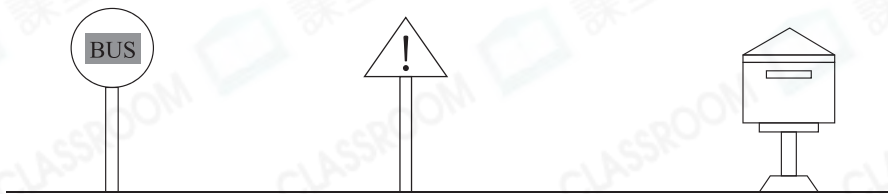
(b)  的長度比  的約* 長 / 短 (* 圈出答案) _____ 個  。【1分】




17.



上圖中，機械人_____最高。【1分】

18.

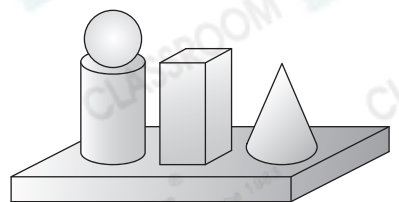


距離  較遠的是*  /  (* 圈出答案) 。【1分】

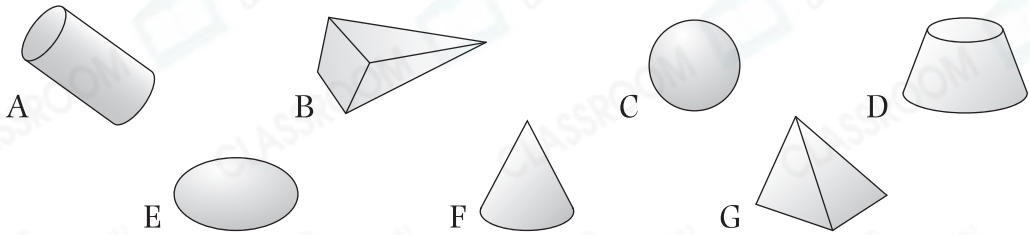
19. 右圖中，

(a) 共有_____個角柱。【1分】

(b)  和  之間是_____。【1分】



20. 根據指示，寫出所有代表答案的英文字母。



(a) 球：_____【1分】

(b) 角錐：_____【1分】

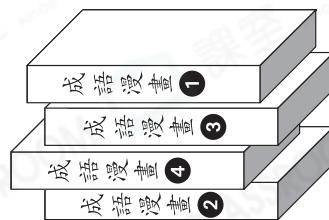
(c) 圓柱：_____【1分】

21. 先在右面畫一個♡，再在左面畫一個☾，最後在♡和☾之間畫一個○。【1分】



22. (a) 《成語漫畫 ①》的上面有
_____本書。【1分】

(b) 《成語漫畫 ④》的下面有
_____本書。【1分】



23. 我是右圖中的 。

(a) 黑板在我的 _____ 面。【1分】

(b) *  /  /  (* 圈出答案)

在我的後面。【1分】







選出答案，把代表答案的○塗黑和塗滿。【10分，每題1分】

24. 20以內最大的奇數是什麼？

- A. 20 ○ B. 19 ○ C. 18 ○ D. 17

25. 下列哪一項合成的結果不是8？

- A. 
- B. 
- C. 
- D. 

26. 下列哪一組數是順數？

- A. 5, 6, 7, 10 ○ B. 12, 11, 10, 9
○ C. 13, 14, 15, 16 ○ D. 8, 10, 11, 12

27. 海晴把5尾金魚放入右面的魚缸內，現在共有金魚多少尾？

- A. 5尾 ○ B. 3尾
○ C. 1尾 ○ D. 0尾



28.



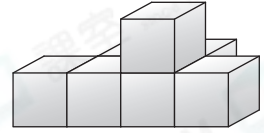
以上有兩張印花卡是姊姊的，姊姊的印花不可能是多少個？

- A. 11個 ○ B. 13個
○ C. 15個 ○ D. 16個

29. 右圖中，共有  多少個？

- A. 5個
 C. 7個

- B. 6個
 D. 8個



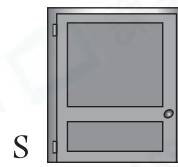
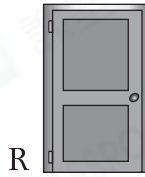
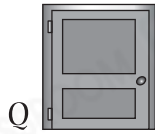
30.



當巴士還沒到站時， 排第五，共有多少人在等候巴士？

- A. 5人 B. 6人 C. 8人 D. 9人

31.

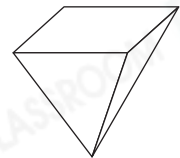


以上四扇門中，哪一扇門最闊？







- A. P B. Q C. R D. S

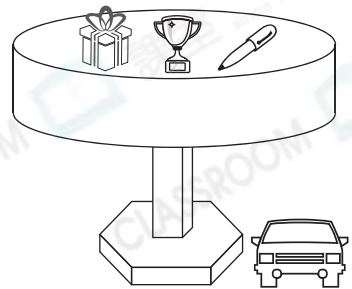
32. 右圖是哪一種立體圖形？

- A. 角柱 B. 角錐
 C. 圓柱 D. 圓錐



33. 根據右圖，下列哪一項是錯誤的？

- A.  的下面有 3 件物品。
 B.  在  和  之間。
 C.  在左面。
 D.  由 2 個角柱和 1 個圓柱組成。



列式計算下列各題。【12分，每題2分】

34.



 和  相差多少枝？

 和  相差：

= _____ (枝)



35. 進寶有 ，送給永超7粒後，餘下  多少粒？

餘下 ：

= _____ (粒)



36.



以上是媽媽買回的碗、杯子和碟子，她共買回碗和碟子多少個？

她共買回碗和碟子：

= _____ (個)








37. 妹妹摺了 ，比姊姊少摺 。姊姊摺了  多少隻？

姊姊摺了 ：

= _____ (隻)



38. 王太太為生日會準備了8個 、12個  和15個 ，沒有人吃 ，還餘下  多少個？

還餘下 ：

= _____ (個)



39.



13人排成一隊，上圖是隊伍中的所有女生。男生有多少人？

男生有：

= _____ (人)



— 全卷完 —