

姓名：_____

班別：_____ ()

日期：_____

成績：_____ /57

限時：40分鐘

範圍：練習1-28

綜合測試(二)

計算下列各題。【8分，每題1分】

1. $13 - 7 =$ _____

2. $9 + 0 =$ _____

3. $10 + 22 =$ _____

4. $52 + 28 =$ _____

5. $12 + 3 + 30 =$ _____

6. $25 + 31 + 27 =$ _____


7. $36 - 5 =$ _____

8. $26 - 12 =$ _____

回答下列各題。【26分】

9. (a) 右面算柱表示的數是_____。【1分】

(b) 十位數字是_____，代表的數值是
_____。【1分】



10. 以下是今次野外定向小組的學生人數。

| | 男生 | 女生 |
|----|----|----|
| 甲組 | 5名 | 8名 |
| 乙組 | 8名 | 5名 |

(a) 甲組共有_____名學生。【1分】

(b) 這兩組的學生人數* 相同 / 不相同 (* 圈出答案)。【1分】

11. 志江捐了23本舊書，其中10本是漫畫書，其餘的是小說。他共捐了小說_____本。【1分】

12. 海泉有以下三張數字卡。



(a) 他最多可拼成_____個不同的兩位數。【1分】

(b) 他可拼成的最大的兩位偶數是_____。【1分】

13.




(a) 上圖中，共有_____件薄餅。【1分】

(b) 如果每5件分給1人，共可分給_____人。【1分】

14. 社區中心舉行歌唱比賽，右圖是比賽結束的時間。

(a) 比賽於_____結束。【1分】

(b) 爺爺在2時到達社區中心，距離比賽結束還有_____小時。【1分】



15. 以下是曉燕購買貼紙所付的款項：



(a) 曉燕付了_____元_____角購買貼紙。【1分】

(b) 每張貼紙售2元，曉燕共買了_____張貼紙。【1分】

16.

| 六月 | | | | | | |
|----|----|----|----|----|----|----|
| 日 | 一 | 二 | 三 | 四 | 五 | 六 |
| | | | | 1 | 2 | 3 |
| 4 | 5 | 6 | 7 | 8 | 9 | 10 |
| 11 | 12 | 13 | 14 | 15 | 16 | 17 |
| 18 | 19 | 20 | 21 | 22 | 23 | 24 |
| 25 | 26 | 27 | 28 | 29 | 30 | |

(a) 六月的第二個星期一是_____月_____日。【1分】

(b) 畢業典禮在六月的最後一天舉行，那天是星期_____。
【1分】

(c) 畢業典禮在  開始，舉行2小時，畢業典禮在 _____ 結束。【1分】

17. 觀察右圖，椅子的高度約是

* 40cm / 45cm / 50cm / 60cm

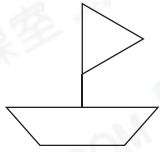
(* 圈出答案)。【1分】




18. 可盈購買一枝康乃馨，圈出她須付的款項。【1分】



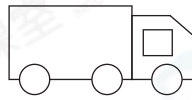
19. A



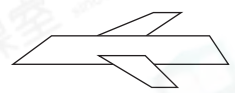
B



C



D



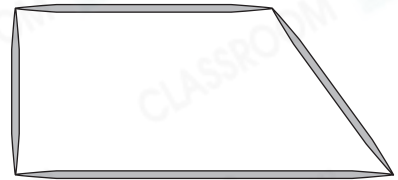
觀察上圖，寫出所有代表答案的英文字母。【2分，每分題1分】

(a) 只由直線組成的圖形：_____

(b) 由直線和曲線組成的圖形：_____

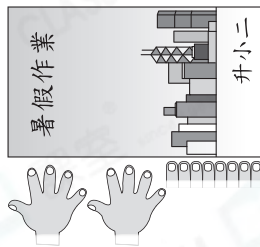
20. 哥哥用竹籤圍成右面的平面圖形。

(a) 這是一個* 三角形 / 四邊形 / 五邊形 (* 圈出答案)。【1分】



(b) 用尺子量出右圖最長的一條邊的長度，這條邊的長度是 _____ cm。【1分】

21.



(a) 練習簿在* 左 / 右 面，暑假作業在* 左 / 右 面。【1分】
(* 圈出答案)


(b) 暑假作業比練習簿長 10cm，每個  約闊多少？【1分】

答案：_____ cm 

22. 右圖中，

(a) 數量最多的立體是_____。【1分】

(b) 有_____個立體可以滾動。【1分】



選出答案，把代表答案的○塗黑和塗滿。【11分，每題1分】

23. 右面數字卡是由大至小排列的，
下列哪一項可能是中間的數？

35

?

26

- A. 38 B. 28 C. 20 D. 12

24. 書櫃的高度是98cm，比桌子高10cm，桌子的高度是多少？


- A. 88cm B. 70cm C. 50cm D. 10cm

25. 一箱檸檬茶，如果每5盒包裝成一排，共可包裝成9排，賣出一排後，每10盒包裝成一排，共可包裝成多少排？


- A. 6排 B. 5排 C. 4排 D. 3排

26. 下列哪一個時鐘顯示的時間是12時半？

A.



B.



C.



D.



27. 李小姐每兩個月去做一次義工，她一年共做義工多少次？

- A. 6次 B. 4次 C. 2次 D. 1次

28. 右圖是昨天的日曆，明天是星期幾？

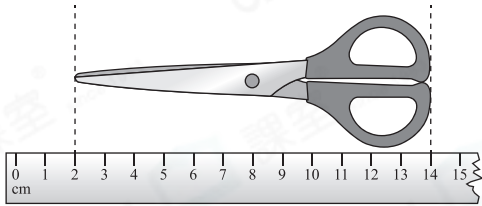
- A. 星期三 B. 星期四
 C. 星期五 D. 星期六



29. 曉靜有 2 個 ，她共可換得  多少個？

- A. 10 個 ○ B. 5 個 ○ C. 2 個 ○ D. 1 個

30.



上圖中，剪刀長多少厘米？

- A. 14 厘米 ○ B. 12 厘米 ○ C. 10 厘米 ○ D. 2 厘米

31. 下列哪一項最適合量度茶葉罐一圈的長度？

○ A.



○ B.



○ C.

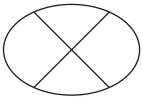


○ D.



32. 下列哪一個圖案只由曲線組成？

○ A.



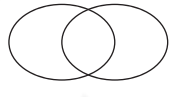
○ B.



○ C.

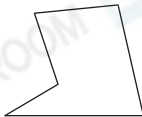


○ D.



33. 下列哪一個圖形不是五邊形？

○ A.



○ B.



○ C.



○ D.



列式計算下列各題。【12分，每題2分】

34. 雅芝有半打 ，再買8塊，共有  多少塊？

共有 ：

= _____ (塊)



35. 榮進有15張聖誕卡，送出一些後，餘下6張，他送出了聖誕卡多少張？

他送出了聖誕卡：

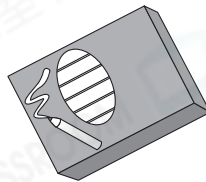
= _____ (張)



36.



小盒裝



大盒裝

小盒裝蠟筆比大盒裝蠟筆少一打，一盒大盒裝蠟筆有多少枝？

一盒大盒裝蠟筆有：

= _____ (枝)



37. 學校舉行二人三足比賽，一年級和二年級共有 32 人參加，二年級和三年級共有 45 人參加，三年級比一年級多多少人參加？

三年級比一年級多：

= _____ (人)



38. 卓明現有 8 元，他想購買一輛玩具車，還欠多少元？

還欠：

= _____ (元)



59 元

39. 以下是印花換領活動的禮品。



35 個



40 個



27 個

陳太太換領了兩瓶不同的洗護用品，最少需要印花多少個？

最少需要印花：

= _____ (個)



— 全卷完 —